

TUẦN 5

Bài 1. a) Nối mỗi phép tính ở cột A với kết quả đúng ở cột B:

A
$7 \times 4$
$8 \times 5$
$9 \times 4$
$8 \times 4$
$9 \times 6$

B
40
36
32
28
54

b) Điền số thích hợp vào chỗ chấm (...):

$64 : \dots = 8$

$0 : 8 = \dots$

$\dots : 8 = 7$

$\dots : 8 = 9$

$24 : \dots = 3$

$7 : \dots = 7$

c) Đúng ghi Đ, sai ghi S:

$9 \times 8 = 72$  ....

$7 \times 6 = 42$  ....

$9 \times 9 = 81$  ....

$56 : 8 = 6$  ....

$63 : 7 = 8$  ....

$7 : 7 = 0$  ....

Bài 2. a) Cho dãy số sau: 8; 16; 24; 32;....;....;....; 64. Số thích hợp vào chỗ chấm là:

- A. 33; 34; 35
- B. 40; 48; 56
- C. 33; 49; 57
- D. 40; 50; 60

b) Có 60 kg gạo chia đều vào 6 bao. Hỏi mỗi bao đựng bao nhiêu ki-lô-gam gạo?

- A. 10kg gạo
- B. 360kg gạo
- C. 54kg gạo
- D. 66kg gạo

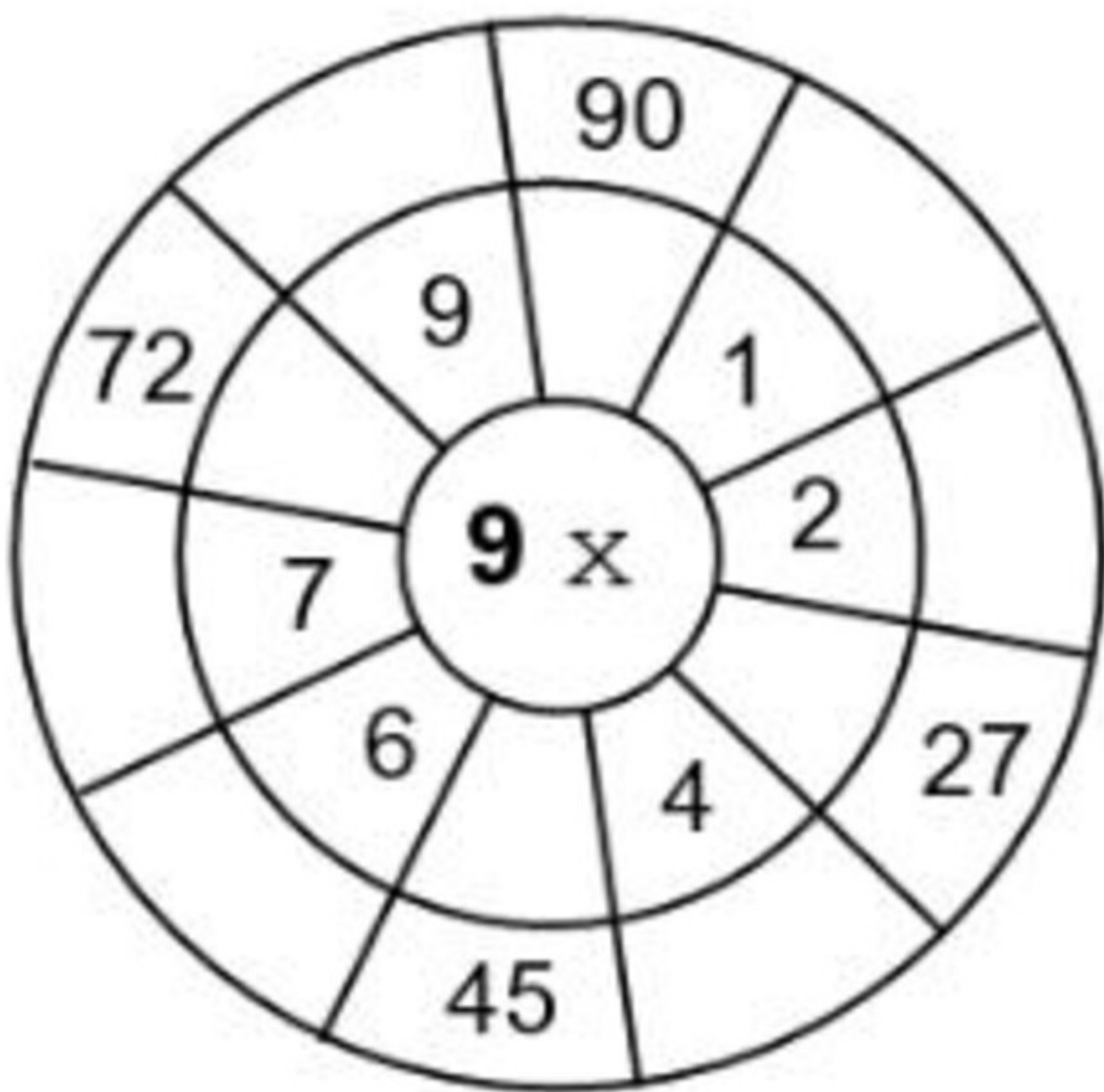
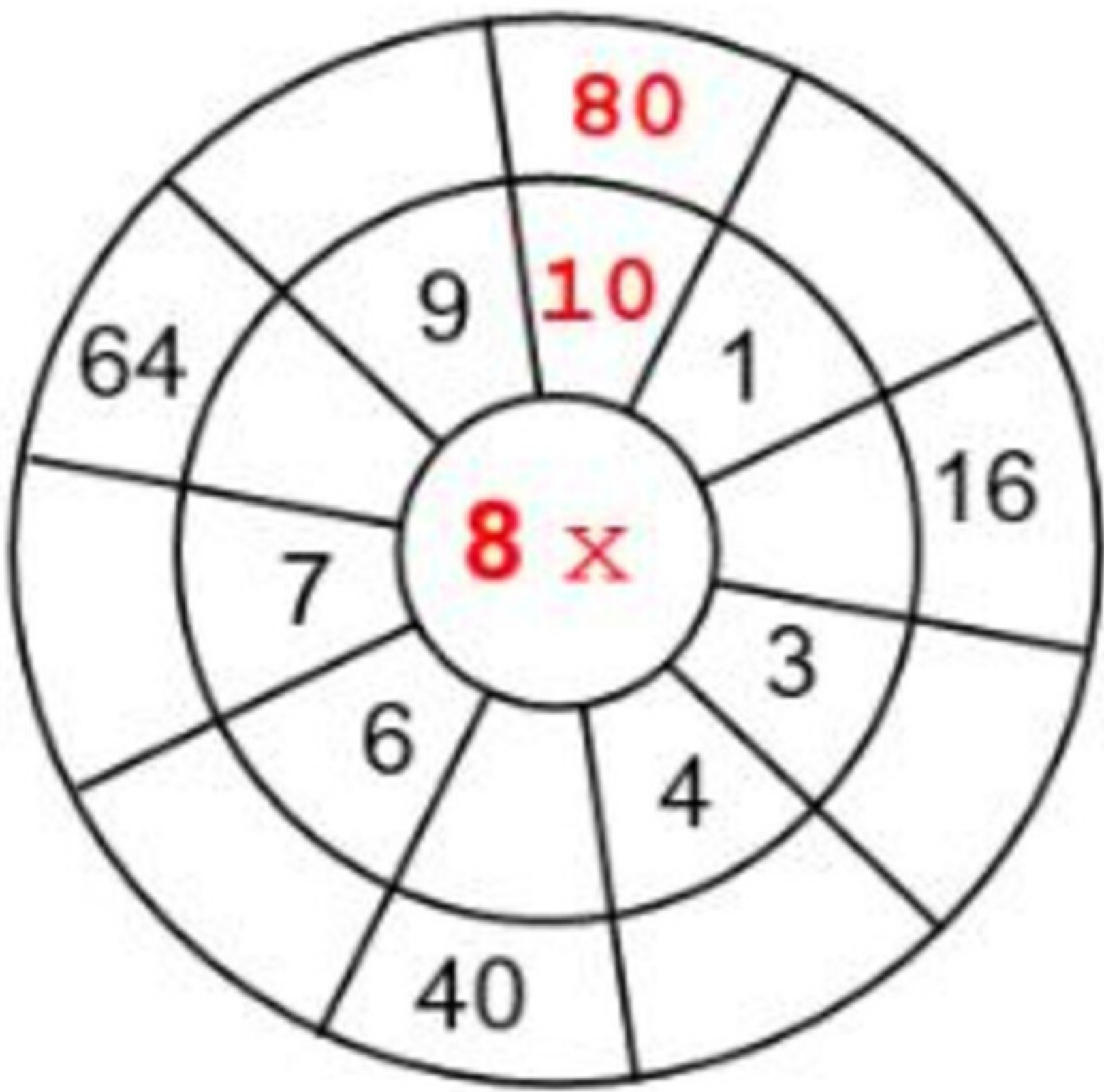
c) Mai có 7 gói kẹo, mỗi gói có 8 cái kẹo. Vậy Mai có số cái kẹo là:

- A. 12 cái kẹo
- B. 26 cái kẹo
- C. 54 cái kẹo
- D. 56 cái kẹo

d) Mỗi thùng dầu có 5l dầu. Hỏi 8 thùng dầu như thế có tất cả bao nhiêu lít dầu?






- A. 24l dầu
- B. 40l dầu
- C. 16l dầu
- D. 6l dầu

Bài 5. Tính (Theo mẫu)








**Bài 6.** Viết số thích hợp vào ngôi sao trong bảng sau:


:	27	90	36	45	72
	9	9	9	9	9
					


**Bài 7.** Chú thỏ sẽ lấy được bao nhiêu củ cà rốt có kết quả bé hơn 40?

















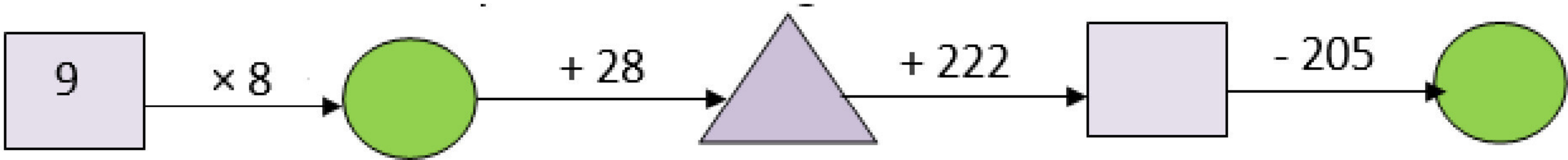






Trả lời: Chú thỏ lấy được ..... củ cà rốt

**Bài 8.** Số?



**Bài 9.** >, <, = ?

- $7 \times 7 \dots 50$

$8 \times 4 \dots 5 \times 6$

$8 \times 3 \dots 4 \times 6$
- $7 \times 4 \dots 6 \times 5$

$9 \times 2 \dots 3 \times 6$

$9 \times 5 \dots 7 \times 6$

**Bài 10.** Một đường gấp khúc có 7 đoạn thẳng dài bằng nhau, độ dài mỗi đoạn thẳng là 9mm. Tính độ dài đường gấp khúc đó.



---

---

---

---

---

---

---

---

---

---

[illegible]