

ĐỀ SỐ 6

UBND

TRƯỜNG TH

BÀI KIỂM TRA CUỐI NĂM HỌC**MÔN: TOÁN – LỚP 2****Năm học: 2025 - 2026**

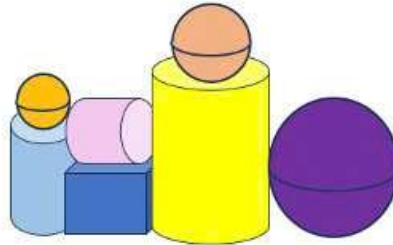
Thời gian: 40 phút

Họ và tên: Lớp:

Điểm	Nhận xét
------	----------

I. TRẮC NGHIỆM (4,0 điểm) Khoanh tròn vào chữ cái trước câu trả lời đúng hoặc làm theo yêu cầu:

Câu 1. Hình dưới đây có bao nhiêu hình cầu?



A. 1

B. 2

C. 3

D. 4

Câu 2. Đọc số 214:

A. Hai trăm bốn mươi một.

B. Hai trăm mười bốn.

C. Bốn trăm hai mươi một.

D. Bốn trăm mười hai.

Câu 3. Số?

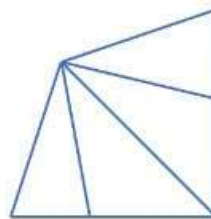
Hình bên có ... tứ giác.

A. 1

B. 2

C. 3

D. 4



Câu 4. Số gồm 3 chục, 2 trăm, 5 đơn vị là:

A. 325

B. 235

C. 352

D. 325

Câu 5. Số lớn nhất có ba chữ số khác nhau là:


A. 789

B. 999

C. 987

D. 978

Câu 6: Cân nặng của con chó là:



A. 5 kg

B. 10 kg

C. 15 kg

D. 20 kg

II. TỰ LUẬN (6,0 điểm)

Câu 1. (2,0 điểm) Đặt tính rồi tính

a. $195 + 144$

b. $507 - 135$

c. $877 - 64$

d. $425 + 64$

.....

.....

.....

.....

Câu 2. (1,0 điểm) Điền cụm từ thích hợp vào chỗ chấm:

(chắc chắn, có thể, không thể)

Bà Lan có 5 quả cam chia cho 4 cháu là: Ngọc, Mai Anh, Việt, Bình.

a. Ngọc được 2 quả cam.

b. Mai Anh được 3 quả cam.

c. Mai Anh, Việt, Ngọc, Bình đều có cam.

d. Trong thùng xe của bà còn 3 quả cam.

Câu 3. (1,5 điểm) Một nông trại buổi sáng bán được 350 kg rau. Buổi chiều bán nhiều hơn buổi sáng là 126 kg rau. Hỏi buổi chiều nông trại bán được bao nhiêu ki-lô-gam rau?

.....

.....

.....

.....

Câu 4. (1 điểm) Điền dấu thích hợp vào chỗ chấm:

$1\text{km} \dots 999\text{m}$

$13\text{mm} \dots 15\text{mm} - 1\text{cm}$

Câu 5. (0,5 điểm) Hiệu của số lớn nhất và số nhỏ nhất có ba chữ số khác nhau lập từ các chữ số 4, 7, 9, 2 là bao nhiêu?

Bài làm

.....

.....

.....