

TRƯỜNG TIỂU HỌC:

Họ và tên học sinh:

ÔN LUYỆN CUỐI HỌC KÌ II - LỚP 3

MÔN: TOÁN

PHẦN 1. TRẮC NGHIỆM

Câu 1. Số gồm 7 chục nghìn, 5 trăm, 3 chục và 2 đơn vị viết là:

A. 70 532

B. 75 032

C. 70 523

D. 75 320

Câu 2. Số 24 được viết bằng chữ số La Mã là:

A. XXIV

B. XIV

C. XXVIII

D. XXVI

Câu 3. Làm tròn số 63 725 đến hàng nghìn ta được số:

A. 63 000

B. 64 000

C. 63 700

D. 63 800

Câu 4. Chị Hiền có tờ 10 000 đồng, 20 000 đồng và 50 000 đồng để vào 3 bao lì xì. Khả năng nào **không thể** xảy ra?

A. Hà nhận được 10 000 đồng.

B. Hà nhận được 20 000 đồng.

C. Hà nhận được 50 000 đồng.

D. Hà nhận được 100 000 đồng.

Câu 5. Một nông trại ngày đầu thu được 4 218 kg cam. Ngày hai thu được gấp 2 lần ngày đầu. Cả hai ngày thu được:

A. 8 436 kg

B. 12 654 kg

C. 4 218 kg

D. 12 645 kg

Câu 6. Một sân chơi hình chữ nhật có chiều dài 126 m, chiều rộng kém chiều dài 3 lần. Chu vi của sân chơi đó là:


A. 168 m

B. 336 m

C. 252 m

D. 504 m

Câu 7. Đồng hồ dưới đây chỉ mấy giờ?



A. 4 giờ 8 phút

B. 8 giờ 4 phút

C. 4 giờ 40 phút

D. 5 giờ 40 phút

Câu 8. Tháng 2 của một năm không nhuận có bao nhiêu ngày?

A. 30 ngày

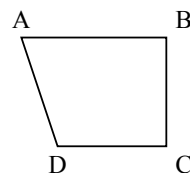
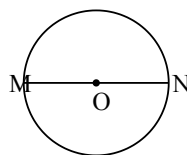
B. 31 ngày

C. 28 ngày

D. 29 ngày

PHẦN 2. TỰ LUẬN

Câu 9. Quan sát hình và điền vào chỗ trống:



• Bán kính của hình tròn tâm O là: | O là trung điểm của:

• Hình tứ giác ABCD có góc vuông.

Câu 10. Đặt tính rồi tính:

a) $14\ 317 \times 4$

b) $75\ 426 : 6$

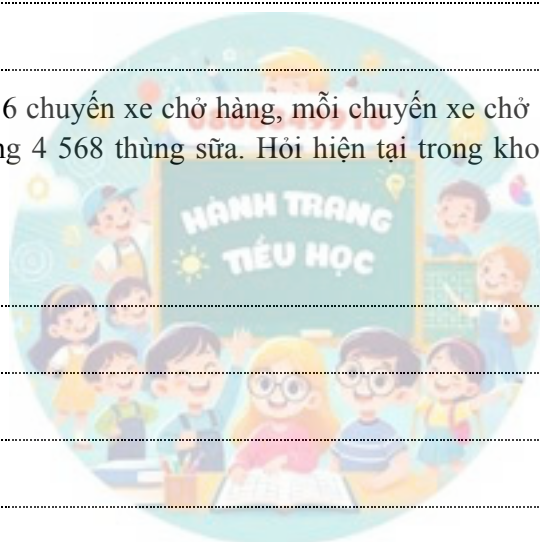
Câu 11. Tính giá trị của biểu thức:

a) $(15\ 428 + 6\ 235) : 3$

b) $95\ 620 - 13\ 415 \times 4$

Câu 12. Một siêu thị nhập về 6 chuyến xe chở hàng, mỗi chuyến xe chở 1 235 thùng sữa. Sau một tuần, siêu thị đã bán được tổng cộng 4 568 thùng sữa. Hỏi hiện tại trong kho của siêu thị còn lại bao nhiêu thùng sữa?

Bài giải



Câu 13. Quan sát bảng thống kê số lít xăng bán được trong 4 ngày:

Thứ Hai	Thứ Ba	Thứ Tư	Thứ Năm
1 245 l	1 412 l	1 387 l	1 506 l

- Cửa hàng bán được nhiều xăng nhất vào ngày thứ:
- Số xăng ngày thứ Năm nhiều hơn thứ Hai là: lít.
- Tổng số xăng bán được cả 4 ngày là: lít.