

Họ và tên:
Lớp: 1A....

**ÔN LUYỆN CUỐI HK II
TOÁN 1**

PHẦN A. TRẮC NGHIỆM

Câu 1. Kết quả của phép tính: $38 - 15 = ?$

- A. 23 B. 25 C. 13 D. 53

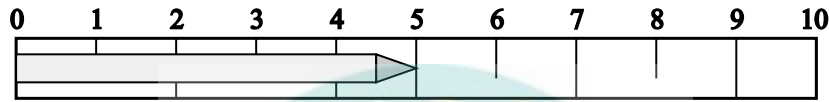
Câu 2. Số tròn chục lớn nhất có hai chữ số là:

- A. 10 B. 90 C. 99 D. 80

Câu 3. Số 54 được đọc là:

- A. Năm mươi bốn B. Năm bốn C. Năm mươi tư D. Bốn mươi lăm

Câu 4. Chiếc bút chì dưới đây dài bao nhiêu cm?



- A. 4 cm B. 5 cm C. 6 cm D. 5

Câu 5. Từ số 15 đến số 75 có bao nhiêu số tròn chục?

- A. 5 số B. 6 số C. 7 số D. 8 số

Câu 6. Số liền sau của số 49 là:

- A. 48 B. 50 C. 51 D. 60

Câu 7. Chọn đáp án đúng cho các ý sau:

a) Số liền trước của số 78 là:

- A. 77 B. 79 C. 76 D. 87

b) Số liền trước của số lớn nhất có hai chữ số là:

- A. 100 B. 98 C. 99 D. 89

c) Số liền sau của số nhỏ nhất có hai chữ số là:


- A. 9 B. 10 C. 11 D. 12

Câu 8. Kết quả phép tính: $22 \text{ cm} + 46 \text{ cm} - 13 \text{ cm} = ?$

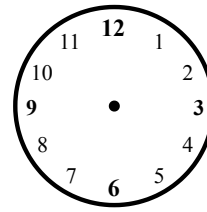
- A. 55 cm B. 68 cm C. 55 D. 65 cm

PHẦN B. TỰ LUẬN

Bài 1: Vẽ thêm kim giờ và kim phút để đồng hồ chỉ:



4 giờ



11 giờ

Bài 2: Đặt tính rồi tính:

$35 + 24$

$42 + 16$

$78 - 35$

$96 - 41$

.....
.....
.....
.....

Bài 3: Điền dấu >, <, =

$28 - 6 \dots\dots 15 + 7$

$32 + 14 \dots\dots 69 - 22$

$55 + 4 \dots\dots 78 - 15$

$87 - 24 \dots\dots 51 + 12$

Bài 4: Một chiếc xe có 45 chỗ ngồi. Linh thấy còn 2 chục chỗ trống. Hỏi có bao nhiêu người trên xe?

Đổi:

Phép tính:

Trả lời:

Bài 5: Điền vào chỗ trống:

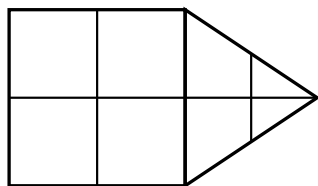
a) Nếu hôm nay là Thứ Sáu ngày 20 tháng 5 năm 2026

- Thì hôm qua là ngày tháng năm

- Thì ngày mai là ngày tháng năm

b) Mẹ đi công tác 1 tuần và 2 ngày. Vậy mẹ đi công tác ngày.

Bài 6: Quan sát hình vẽ và điền số thích hợp:



- Có hình vuông

- Có hình tam giác