

Họ và tên:

KÌ II

Lớp:

MÔN TOÁN - LỚP 1

Năm học: 2025 - 2026

Câu 1. Viết (theo mẫu):

Bốn mươi tám: 48 35: ba mươi lăm

Bảy mươi hai: 81:

Chín mươi tư: 44:

Câu 2. Số?a) Số 86 gồm chục và đơn vị.b) Số gồm 6 chục và 0 đơn vị được viết là: **Câu 3. Khoanh vào chữ cái trước câu trả lời đúng:**

a) Số lớn nhất có hai chữ số là:

A. 10

B. 99

C. 90

b) Số tròn chục bé nhất có hai chữ số là:

A. 10

B. 20

C. 100

c) Số 70 là số liền trước của số nào:

A. 69

B. 71

C. 80

d) Số liền sau của số 89 là:

A. 90

B. 88

C. 100

Câu 4. Đặt tính rồi tính:

$32 + 45$

.....

$56 + 23$

.....

$87 - 34$

.....

$99 - 60$

.....

.....
.....

Câu 5. Đúng ghi Đ, sai ghi S vào ô trống:

a) $32 + 14 > 50$

b) $88 - 44 < 40$

c) $20 + 30 = 60 - 10$

d) $95 - 5 > 80 + 5$

Câu 6. Tính:

a) $45 - 15 + 20 =$

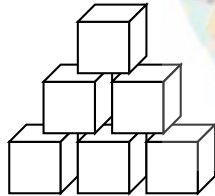
b) $30 \text{ cm} + 25 \text{ cm} =$

Câu 7. Bài toán: Một cửa hàng có 48 cái bánh, đã bán đi 2 chục cái bánh. Hỏi cửa hàng còn lại bao nhiêu cái bánh?


Phép tính: ... =

Trả lời: Cửa hàng còn lại cái bánh.

Câu 8. Quan sát hình vẽ và trả lời:



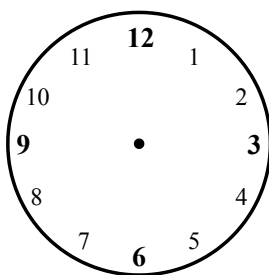
a) Có khối lập phương.



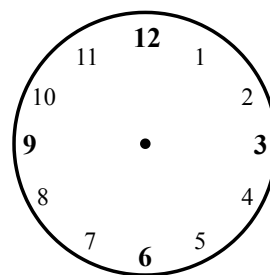
b) Có hình tam giác.

Có hình vuông.

Câu 9. Vẽ thêm kim đồng hồ chỉ giờ đúng:



8 giờ



11 giờ

Bài 7*: Bố đi làm về nhà lúc **5 giờ chiều**. Cả nhà dự định sẽ ăn tối lúc **6 giờ chiều**.

Mẹ đang phân vân chọn món ăn sao cho kịp giờ:

- Nấu **phở bò** mất 3 giờ.
- **Luộc trứng** mất 1 giờ.
- **Hầm xương** mất 4 giờ.
- **Nướng gà** mất 2 giờ.

Theo em, để kịp ăn tối đúng lúc 6 giờ, mẹ nên nấu món:

.....

