

Họ và tên:.....

Môn: **Toán** Lớp 2

Lớp: 2A.....

Thời gian làm bài: 40 phút

<u>ĐIỂM</u>	<u>NHẬN XÉT CỦA GIÁO VIÊN</u>

I. PHẦN TRẮC NGHIỆM

Khoanh vào chữ cái đặt trước câu trả lời đúng hoặc làm theo yêu cầu:

Câu 1. Trong phép tính $18 : 2 = 9$, số 9 được gọi là:

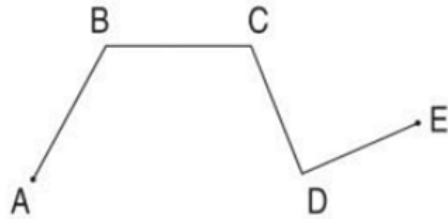
- A. Số bị chia B. Số chia C. Thương D. Tổng

Câu 2. Số 705 được đọc là:

- A. bảy trăm không năm B. bảy trăm linh lăm
C. bảy trăm linh năm D. bảy không năm

Câu 3. Hình bên có bao nhiêu đoạn thẳng ?

- A. 3 đoạn
B. 4 đoạn
C. 5 đoạn
D. 6 đoạn



Câu 4. Vật có dạng khối cầu là:



A



B



C



D

Câu 5. $45dm = \dots\dots cm$. Số thích hợp điền vào chỗ chấm là:

- A. 45 B. 9 C. 405 D. 450

Câu 6. Mỗi hộp có 5 cái bánh. Vậy 4 hộp có số cái bánh là:

- A. 20 cái bánh B. 9 cái bánh C. 1 cái bánh D. 15 cái bánh

Câu 7. Cho dãy số: 290, 280, ..., 260, 250, ..., 230. Các số thích hợp điền vào chỗ chấm lần lượt là:

- A. 279, 249 B. 270, 240 C. 240, 270 D. 270

Câu 8. Tích của số chẵn nhỏ nhất có một chữ số (khác 0) với số tròn chục nhỏ nhất có hai chữ số là:

- A. 40 B. 30 C. 20 D. 10

II. PHẦN TỰ LUẬN

Bài 1. Đặt tính rồi tính:

$464 + 132$

$781 - 314$

$49 + 535$

$776 - 26$

.....

.....

.....

.....

.....

.....

.....

.....

.....

.....

.....

.....

Bài 2. Tính:

a) $16 \text{ kg} : 2 + 118 \text{ kg} = \dots\dots\dots$

b) $105 \text{ m} + 115 \text{ m} - 70 \text{ m} = \dots\dots\dots$


Bài 3. Cuộn dây điện thứ nhất dài 236 m, cuộn dây điện thứ hai ngắn hơn cuộn dây thứ nhất 29 m. Hỏi cuộn dây điện thứ hai dài bao nhiêu mét?

Bài giải

.....
.....
.....

Bài 4. a. Nối con vật với số đo cân nặng phù hợp trong thực tế:

3 kg	18 kg	360 kg
------	-------	--------



b. Một quả chanh có giá 500 đồng, Hoa đưa cho cô bán hàng tờ 1 000 đồng. Vậy, cô bán hàng cần trả lại cho Hoa đồng.

Bài 5. Sử dụng bảng dưới đây để trả lời các câu hỏi sau:

Tên học sinh	Nam	Việt	Mai	Rô – bốt
Chiều cao	128cm	130cm	110cm	1m

a. Bạn học sinh nào cao nhất?

.....

b. Bạn học sinh nào thấp nhất?

.....

c. Nam cao hơn Mai bao nhiêu xăng – ti – mét?

.....

Chúc các con làm bài tốt!

ĐÁP ÁN VÀ BIỂU ĐIỂM CHẤM MÔN TOÁN CUỐI KÌ II LỚP 2

Năm học: 2023 – 2024

I. TRẮC NGHIỆM: (4 điểm)

Bài	Đáp án	Điểm
1	Khoanh vào C	0,5 điểm
2	Khoanh vào C	0.5 điểm
3	Khoanh vào B	0.5 điểm
4	Khoanh vào B	0.5 điểm
5	Khoanh vào D	0.5 điểm
6	Khoanh vào A	0.5 điểm
7	Khoanh vào B	0.5 điểm
8	Khoanh vào C	0.5 điểm

II. Phần tự luận:(6 điểm)

Bài 1: 2 điểm (mỗi phép tính đúng 0,5 điểm)

$$464 + 132$$

$$781 - 314$$

$$49 + 535$$

$$776 - 26$$

$$\begin{array}{r} 464 \\ + 132 \\ \hline 596 \end{array}$$

$$\begin{array}{r} 781 \\ - 314 \\ \hline 467 \end{array}$$

$$\begin{array}{r} 49 \\ + 535 \\ \hline 584 \end{array}$$

$$\begin{array}{r} 776 \\ - 26 \\ \hline 750 \end{array}$$

Bài 2: 1 điểm (mỗi phép tính đúng 0,5 điểm)

a) $16 \text{ kg} : 2 + 118 \text{ kg} = \dots\dots\dots$

b) $105 \text{ m} + 115 \text{ m} - 70 \text{ m} = \dots\dots\dots$

Bài 3: 1 điểm .

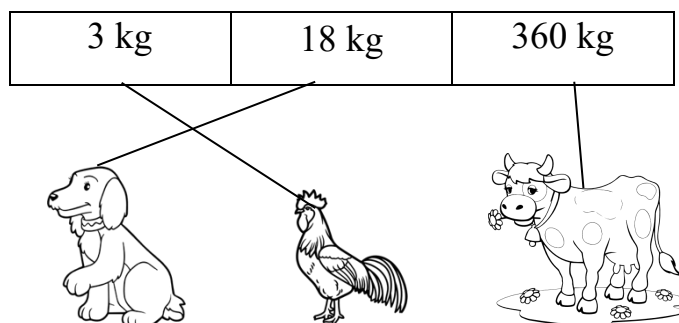
Bài giải

Cuộn dây điện thứ hai dài số mét là:

$$236 - 29 = 207 \text{ (m)}$$

Đáp số : 207 m

Bài 4. a. 0,6 điểm (Mỗi ý đúng được 0,25 điểm)



b. 0,25 điểm

Chúc các con làm bài tốt!

Một quả chanh có giá 500 đồng, Hoa đưa cho cô bán hàng tờ 1 000 đồng. Vậy, cô bán hàng cần trả lại cho Hoa **500** đồng.

Bài 5. Sử dụng bảng dưới đây để trả lời các câu hỏi sau:

Tên học sinh	Nam	Việt	Mai	Rô – bốt
Chiều cao	128cm	130cm	110cm	1m

a. Bạn học sinh nào cao nhất? (0,25 điểm)

- Bạn Việt cao nhất.

b. Bạn học sinh nào thấp nhất? (0,25 điểm)

- Bạn Rô – bốt thấp nhất.

c. Nam cao hơn Mai bao nhiêu xăng – ti – mét? (0,5 điểm)

- Nam cao hơn Mai 18 cm.