

**ĐỀ KIỂM TRA HKII  
MÔN TOÁN – LỚP 2**

Họ và tên: .....

Thời gian: 40 phút

Lớp: .....

Ngày ..... / ..... / .....

<b>Điểm</b>	<i>Lời nhận xét của giáo viên</i>

**I. Phần trắc nghiệm: Hãy khoanh tròn vào chữ cái đặt trước câu trả lời đúng**

**Câu 1:** Số 654 đọc là:

- A. Sáu trăm năm mươi tư      B. Sáu trăm năm bốn      C. Sáu năm bốn

**Câu 2:** Số thích hợp điền vào chỗ chấm: 1 ngày = ..... giờ

- A. 12      B. 24      C. 60

**Câu 3:** Thứ 4 tuần này là ngày 10 tháng 5, thứ 4 tuần trước là ngày mấy ?

- A. 3      B. 17      C. 4

**Câu 4:** Giá trị của chữ số 9 trong 492 là:

- A. 900      B. 90      C. 92

**Câu 5:** Kết quả của dãy tính  $2 \times 8 + 18$  là:

- A. 34      B. 30      C. 44

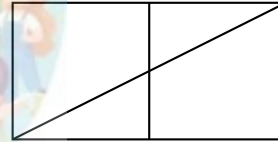
**Câu 6:**

a) Trong hình vẽ bên có mấy hình tam giác

- A. 5      B. 4      C. 3

b) Trong hình bên có mấy hình tứ giác

- A. 2      B. 3      C. 4



**Câu 7:** Hiệu của số lớn nhất có 3 chữ số và số nhỏ nhất có 3 chữ số là:


- A. 899      B. 900      C. 100

**Câu 8:** Đúng ghi Đ, sai ghi S. Đồng hồ bên chỉ:

A. Đồng hồ chỉ 3 giờ 30 phút.

B. Đồng hồ chỉ 4 giờ kém 15 phút.

C. Đồng hồ chỉ 3 giờ rưỡi.



**II. Phần tự luận.**

**Bài 1:**

**a. Đặt tính rồi tính:**

145 + 423

589 - 246

372 + 154

954 - 328

.....  
.....

**b. Tính**

$12\text{kg} : 2 + 5\text{kg} = \dots\dots\dots$

$20\text{l} : 5 + 156\text{l} = \dots\dots\dots$

$4\text{m} \times 3 + 258\text{m} = \dots\dots\dots$

$35\text{km} : 5 + 480\text{km} = \dots\dots\dots$

**Bài 2:** Mỗi hộp bánh có 6 chiếc bánh. Hỏi 5 hộp như thế có bao nhiêu chiếc bánh?

**Phép tính:**  $\dots\dots\dots$


**Trả lời:**  $\dots\dots\dots$

**Bài 3:** Một hình tứ giác ABCD có độ dài các cạnh là  $AB = 1\text{ dm}$ ;  $BC = 15\text{ cm}$ ;  $CD = 20\text{ cm}$ ;  $DA = 25\text{ cm}$ . Tính tổng độ dài các cạnh tứ giác ABCD?

**Bài giải**

$\dots\dots\dots$   
 $\dots\dots\dots$

**Bài 4:** Quan sát biểu đồ tranh số quả cam các bạn hái được:

<b>Mai</b>	
<b>An</b>	
<b>Cường</b>	

a) Mai hái được bao nhiêu quả cam?

b) Trong ba bạn, ai là người hái được số cam ít nhất?

$\dots\dots\dots$   
 $\dots\dots\dots$

