

TRƯỜNG .....

Lớp: .....

Họ và tên: .....

KIỂM TRA CUỐI HỌC KÌ II

MÔN: TOÁN LỚP 3 (ĐỀ SỐ 4)

(Thời gian 40 phút)

Điểm	Nhận xét của Thầy Cô	Giáo viên chấm (kí và ghi rõ họ tên)
	.....	1. ....
	.....	2. ....
	.....	

**I. Phần trắc nghiệm. (4 điểm)** Khoanh vào chữ cái đặt trước câu trả lời đúng:

**Câu 1.** Số gồm 5 chục nghìn, 6 trăm và 9 đơn vị được viết là: **(0,5 điểm)**

- A. 50 609                      B. 5 609                      C. 569                      D. 50 690

**Câu 2.** Đồng hồ bên chỉ mấy giờ? **(0,5 điểm)**

- A. 22 giờ 40 phút  
B. 23 giờ kém 15 phút  
C. 9 giờ 55 phút  
D. 11 giờ 45 phút



**Câu 3.** Số liền trước của số 80 000 là: **(0,5 điểm)**

- A. 80 999                      B. 79 999                      C. 79 909                      D. 79 990

**Câu 4.** Một đoàn tàu chở hàng gồm 9 toa tàu, mỗi toa tàu chở 10 810 kg hàng hoá. Vậy khối lượng hàng hoá đoàn tàu đó chở là: **(0,5 điểm)**

- A. 19 810 kg                      B. 90 290 kg                      C. 97 290 kg                      D. 10 801 kg

**Câu 5.** Thùng thứ nhất có 20 532l dầu. Số dầu của thùng thứ hai gấp 4 lần số dầu của thùng thứ nhất. Vậy thùng thứ hai chứa số lít dầu là: **(1 điểm)**

- A. 80 128l                      B. 80 028l                      C. 5133l                      D. 82 128l

**Câu 6.** Hà cần một chiếc hộp để đựng 4 cái bánh hình tròn có bán kính là 4 cm. Hà tìm được một cửa hàng bán loại hộp giấy hình vuông có các kích cỡ (độ dài của cạnh hộp) là 80 mm, 100 mm, 140 mm, 160 mm. Để đựng vừa số bánh trên, Hà nên chọn mua chiếc hộp cạnh dài là: **(1 điểm)**

- A. 80 mm                      B. 100 mm                      C. 140 mm                      D. 160 mm



## II. Phần tự luận. (6 điểm)

**Bài 1.** Đặt tính rồi tính. (2 điểm)

$12\ 435 + 9\ 328$

$80\ 503 - 27\ 162$

$13\ 120 \times 6$

$25\ 672 : 4$

.....

.....

.....

**Bài 2.** Tính giá trị của biểu thức. (1 điểm)

$3 \times (8\ 500 + 7\ 500)$

$62\ 835 - 45\ 672 : 3$

.....

.....

**Bài 3.** Điền vào chỗ trống "chắc chắn", "có thể" hoặc "không thể". (1 điểm)

Trong hộp có 1 quả bóng xanh và 1 quả bóng đỏ. Không nhìn vào hộp lấy ra 1 quả bóng

- ..... lấy được quả bóng đỏ.
- ..... lấy được quả bóng xanh.
- ..... lấy được quả bóng tím.

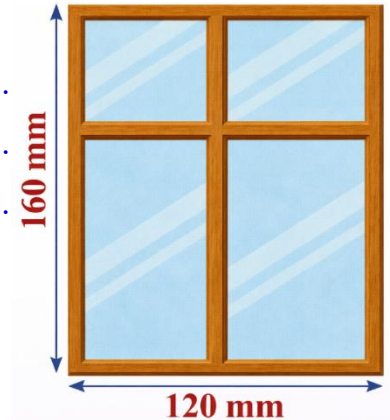
**Bài 5.** Tính chu vi của khung cửa sổ hình chữ nhật (như bức tranh). (1 điểm)

Bài giải

.....

.....

.....



**Bài 6.** Năm 2024, một tỉnh đón được 520000 khách quốc tế đến tham quan du lịch. Năm 2025, lượng khách quốc tế đến tỉnh đó tăng thêm 125000 người so với năm 2024.

Hỏi trong hai năm 2024 và 2025, tỉnh đó đã đón tất cả bao nhiêu khách quốc tế? (1 điểm)

Bài giải

.....

.....

.....

.....

.....

TRƯỜNG .....

Lớp: .....

Họ và tên: .....

KIỂM TRA CUỐI HỌC KÌ II

MÔN: TOÁN LỚP 3 (ĐỀ SỐ 5)

(Thời gian 40 phút)

Điểm	Nhận xét của Thầy Cô	Giáo viên chấm (kí và ghi rõ họ tên)
	.....	1. ....
	.....	2. ....
	.....	

**I. Phần trắc nghiệm. (4 điểm).** Khoanh vào chữ cái đặt trước câu trả lời đúng:

**Câu 1.** Số gồm 2 chục nghìn, 9 chục và 9 đơn vị được viết là: **(0,5 điểm)**

A. 299.

B. 2 099

C. 20 099

D. 20 990


**Câu 2.** Đồng hồ bên chỉ mấy giờ? **(0,5 điểm)**

A. 10 giờ 30 phút

B. 10 giờ 35 phút

C. 11 giờ 30 phút

D. 11 giờ 35 phút



**Câu 3.** Trong các số dưới đây, số lớn nhất là: **(0,5 điểm)**

A. 29 767

B. 30 652

C. 29 908

D. 32 006

**Câu 4.** Hôm nay cửa hàng của cô Hiền bán được 4 chai, mỗi chai đựng 1 500 ml mật ong. Vậy số mật ong hôm nay cửa hàng của cô Hiền bán được là: **(0,5 điểm)**

A. 6 l

B. 4 000 ml

C. 2 500 ml

D. 3 l

**Câu 5.** Để chở được 40 người khách cùng sang sông cần 5 chiếc thuyền (mỗi thuyền chở được số người như nhau). Có 50 người khách cùng sang sông thì cần ít nhất bao nhiêu chiếc thuyền như thế? **(1 điểm)**

A. 5

B. 6

C. 7

D. 8

**Câu 6.** Một hình chữ nhật có chu vi 48cm, chiều dài 16cm. Tính diện tích hình chữ nhật đó. **(1 điểm)**

A. 512cm<sup>2</sup>

B. 128cm<sup>2</sup>

C. 128cm

D. 182cm<sup>2</sup>

## II. Phần tự luận. (6 điểm)

**Bài 1.** Điền vào chỗ trống. (1 điểm)

- Số 71 085 đọc là : .....
- Chữ số 8 của số 68 459 có giá trị là: .....
- Số liền trước của số 51 000 là: .....
- Làm tròn số 34 625 đến hàng chục nghìn ta được số: .....

**Bài 2.** Đặt tính rồi tính. (2 điểm)

$54\,227 + 19\,356$

$72\,805 - 47\,660$

$23\,115 \times 4$

$81\,753 : 3$

.....

.....

.....

**Bài 3.** Tính giá trị của biểu thức. (1 điểm)

$7 \times (8\,550 - 4\,550)$

$50\,903 - 35\,460 : 3$

.....

.....

.....

**Bài 4.** Lá cờ Tổ Quốc trên đỉnh Lũng Cú (tỉnh Hà Giang) có dạng hình chữ nhật. Lá cờ dài 900 cm và rộng 600 cm. Tính chu vi của lá cờ. (1 điểm)

*Bài giải*

.....

.....

.....

**Bài 5.** Nhà của Phong cách trường 2700 m. Hằng ngày đi học, Phong đạp xe đi từ nhà đến trường rồi lại đi từ trường về nhà. Một tuần Phong đi học 5 ngày. Hỏi trong một tuần đi học, Phong phải đạp xe đi bao nhiêu mét? (1 điểm)

*Bài giải*

.....

.....

.....

TRƯỜNG .....

Lớp: .....

Họ và tên: .....

KIỂM TRA CUỐI HỌC KÌ II

MÔN: TOÁN LỚP 3 (ĐỀ SỐ 6)

(Thời gian 40 phút)

Điểm	Nhận xét của Thầy Cô	Giáo viên chấm (kí và ghi rõ họ tên)
	.....	1. ....
	.....	2. ....
	.....	

### I. Phần trắc nghiệm. (4 điểm)

Khoanh vào chữ cái đặt trước câu trả lời đúng:

**Câu 1.** Số "tám mươi tư nghìn chín trăm linh hai" viết là: (0,5 điểm)

- A. 8 492                      B. 84 902                      C. 80 492                      D. 84 092

**Câu 2.** Trong một năm có bao nhiêu tháng có 30 ngày? (0,5 điểm)

- B. 4 tháng                      A. 3 tháng                      C. 5 tháng                      D. 7 tháng

**Câu 3.** Trong các phép tính sau, phép tính có kết quả lớn nhất là: (0,5 điểm)

- A.  $26\ 605 + 8\ 125$               B.  $9\ 305 \times 3$                       C.  $64\ 819 - 36\ 342$               D.  $70\ 612 : 2$


**Câu 4.** Hà đi từ nhà lúc 6 giờ 25 phút và đến trường lúc 7 giờ kém 10 phút. Thời gian Hà đi từ nhà đến trường là: (0,5 điểm)

- A. 15 phút                      B. 20 phút                      C. 25 phút                      D. 30 phút

**Câu 5.** Đàn dê của bác Hùng có 1040 con. Mỗi ngày, một con dê sẽ ăn khoảng 3 kg cỏ tươi. Vậy khối lượng cỏ tươi bác Tâm cần cung cấp cho đàn dê ăn trong một tuần là: (1 điểm)

- A. 21 840 kg                      B. 3 120 kg                      C. 3 020 kg                      D. 21 140 kg

**Câu 6.** Bộ sưu tập tem của Minh có rất nhiều con tem hình vuông cạnh 2 cm. Minh muốn xếp các con tem đó lên tấm bìa hình chữ nhật có chiều dài bằng 10 cm và chiều rộng bằng 6 cm. Vậy số con tem Minh có thể xếp lên tấm bìa đó là: (1 điểm)



- A. 15 con tem                      B. 16 con tem                      C. 14 con tem                      D. 13 con tem

## II. Phần tự luận. (6 điểm)


**Bài 1.** Điền vào chỗ trống. (2 điểm)

$$7\ 8563 = \dots\dots\dots + \dots\dots\dots + 500 + \dots\dots\dots + 3$$

Đồng hồ bên chỉ .....giờ kém ..... phút.

Số liền trước của số 26 100 là: .....

Làm tròn số 26 527 đến hàng chục nghìn ta được số: .....



**Bài 2.** Tính giá trị của biểu thức. (1 điểm)

$$4 \times (76\ 034 - 62\ 829)$$

$$45\ 138 + 25\ 896 : 3$$

.....  
.....  
.....

**Bài 3.** Điền dấu (> ; < ; =) thích hợp vào chỗ chấm. (1 điểm)

$$15\ 000\ \text{ml} \times 4 \quad \dots\dots \quad 6\ \text{l}$$

$$2\ 000\ \text{m} + 6\ 000\ \text{m} \quad \dots\dots \quad 10\ \text{km} \times 9$$

**Bài 4.** Một hình chữ nhật có chiều dài 3 dm 2 cm và chiều dài gấp 4 lần chiều rộng. Tính chu vi của hình chữ nhật đó. (1 điểm)

*Bài giải*

.....  
.....  
.....  
.....  
.....

**Bài 6.** Hôm qua, một lít xăng có giá 30 841 đồng. Hôm nay, giá của mỗi lít xăng đã giảm 3 403 đồng so với hôm qua. Mẹ mua 3l xăng. Hỏi mẹ phải trả cho người bán hàng bao nhiêu tiền? (1 điểm)

*Bài giải*

.....  
.....  
.....  
.....