

TRƯỜNG TIỂU HỌC ...

ÔN LUYỆN THI HỌC KỲ II
LỚP 4 - NĂM HỌC 2025 - 2026
MÔN: TOÁN

Lớp: 4

Thời gian làm bài: 40 phút

Họ và tên:

PHẦN 1. TRẮC NGHIỆM

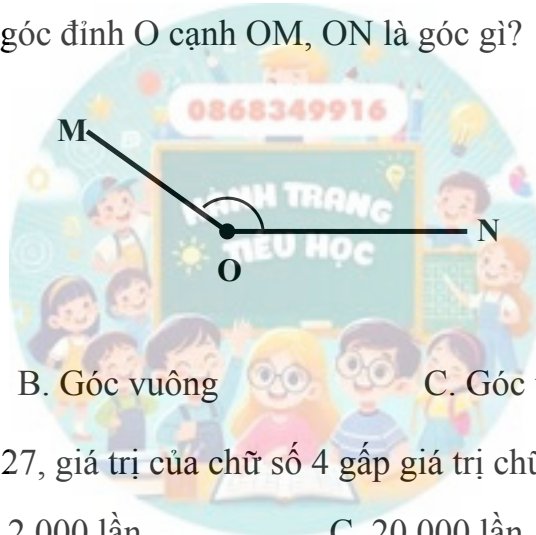
Câu 1: Thương của 625 842 và 6 là:

- A. 104 307 B. 104 307 (dư 2) C. 104 308 D. 143 007

Câu 2: Số thích hợp điền vào chỗ chấm: $8 \text{ m}^2 5 \text{ mm}^2 = \dots\dots\dots \text{ mm}^2$ là:

- A. 8 000 005 B. 80 005 C. 800 005 D. 8 000 050

Câu 3: Quan sát hình vẽ, góc đỉnh O cạnh OM, ON là góc gì?



- A. Góc nhọn B. Góc vuông C. Góc tù D. Góc bẹt

Câu 4: Trong số 84 309 527, giá trị của chữ số 4 gấp giá trị chữ số 2 số lần là:

- A. 200 lần B. 2 000 lần C. 20 000 lần D. 200 000 lần

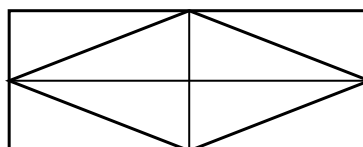
Câu 5: Quy đồng mẫu số hai phân số $\frac{7}{12}$ và $\frac{5}{6}$, ta được:

- A. $\frac{7}{12}$ và $\frac{10}{12}$ B. $\frac{7}{12}$ và $\frac{5}{12}$ C. $\frac{14}{12}$ và $\frac{10}{12}$ D. $\frac{7}{12}$ và $\frac{11}{12}$

Câu 6: Trung bình xay 5 yến thóc thu được 35 kg gạo. Vậy xay 2 tạ thóc thì thu được:

- A. 70 kg B. 140 kg C. 150 kg D. 120 kg

Câu 7: Hình dưới đây có bao nhiêu hình thoi?



- A. 1 hình thoi B. 2 hình thoi C. 9 hình bình hành D. Cả A và C đều đúng

PHẦN 2. TỰ LUẬN

Bài 1. Đặt tính rồi tính:

$$425\ 318 \times 34$$

$$745\ 200 : 25$$

Bài 2. Tính:

$$\frac{5}{14} + 3 = \dots\dots\dots$$

$$\frac{7}{15} \times \frac{5}{21} = \dots\dots\dots$$

$$4 - \frac{9}{20} = \dots\dots\dots$$

$$12 : \frac{3}{4} = \dots\dots\dots$$

Bài 3. Số?

$$8 \text{ tấn } \frac{3}{4} \text{ tạ} = \dots\dots\dots \text{ kg}$$

$$4 \text{ giờ } 25 \text{ phút} = \dots\dots\dots \text{ phút}$$

$$\frac{1}{5} \text{ thế kỷ} = \dots\dots\dots \text{ năm}$$

$$25 \text{ dm}^2 \ 8 \text{ cm}^2 = \dots\dots\dots \text{ cm}^2$$

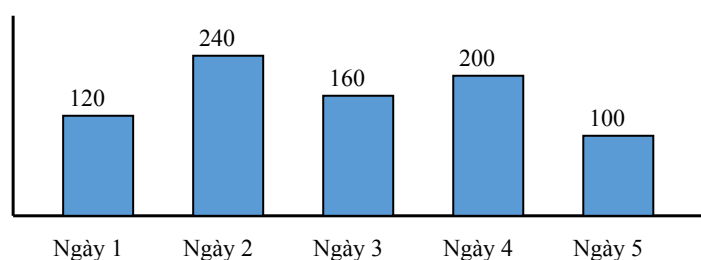
Bài 4. Tính bằng cách thuận tiện:

$$825 \times 1\ 347 - 825 \times 347$$

$$\frac{13}{19} \times \frac{8}{5} \times \frac{19}{13}$$

Bài 5. Quan sát biểu đồ và điền vào chỗ trống:

Số kg giấy vụn các lớp gom được trong 5 ngày



a) Tổng số kg giấy vụn gom được trong 5 ngày là:

b) Trung bình mỗi ngày gom được:

Bài 6. Bài toán:

Một cửa hàng tuần đầu bán được 1 tấn 400 kg đường. Tuần thứ hai bán được bằng $\frac{4}{5}$ tuần đầu. Hỏi trung bình mỗi ngày của 2 tuần cửa hàng bán được bao nhiêu ki-lô-gam đường (biết cửa hàng mở cửa tất cả các ngày trong tuần)?

