

ÔN LUYỆN CUỐI HỌC KỲ II

MÔN: TOÁN - LỚP 1

Họ và tên:

Lớp: 1

Phần I. Trắc nghiệm.

Câu 1. Số gồm 6 chục và 3 đơn vị được viết là:

A. 60

B. 36

C. 63

D. 90

Câu 2. Trong các số 48, 51, 39, 72. Số lớn nhất là số:

A. 48

B. 51

C. 39

D. 72

Câu 3. Có bao nhiêu số tròn chục nhỏ hơn 60?

A. 5 số

B. 6 số

C. 4 số

D. 7 số

Câu 4. Hôm nay là ngày 10 tháng 5. Ba hôm trước là ngày mấy tháng 5?

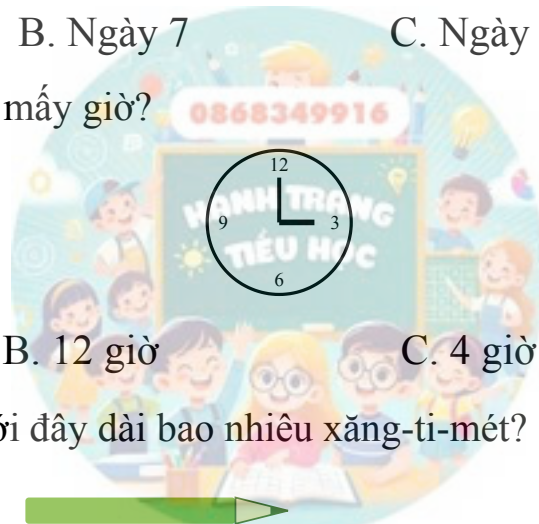
A. Ngày 13

B. Ngày 7

C. Ngày 8

D. Ngày 6

Câu 5. Đồng hồ dưới đây chỉ mấy giờ?



A. 3 giờ

B. 12 giờ

C. 4 giờ

D. 11 giờ

Câu 6. Bút chì trong hình dưới đây dài bao nhiêu xăng-ti-mét?



A. 4 cm

B. 5 cm

C. 6 cm

D. 7 cm

Phần II. Tự luận.

Câu 7. Đặt tính rồi tính:

$42 + 35$

.....

.....

.....

$16 + 52$

.....

.....

.....

$88 - 46$

.....

.....

.....

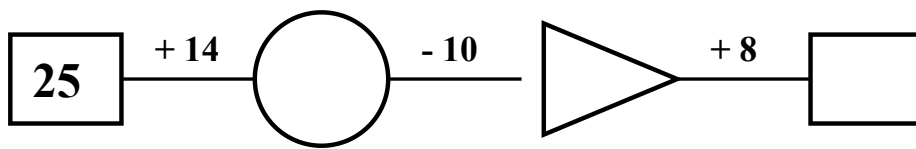
$97 - 60$

.....

.....

.....

Câu 8. Điền số thích hợp vào sơ đồ:

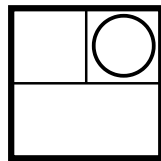


Câu 9. Sắp xếp các số 15, 82, 44, 9, 61 theo thứ tự từ bé đến lớn:

Câu 10. Điền vào chỗ chấm:

- a) Số liền trước của số 80 là: b) Số bé nhất có hai chữ số khác nhau là:
 c) Số lớn nhất có hai chữ số giống nhau là:

Câu 11. Hình vẽ bên có bao nhiêu hình vuông?



Trả lời: Hình vẽ có hình vuông.

Câu 12. Mẹ mua 28 quả trứng. Mẹ đem biếu bà 12 quả trứng. Hỏi mẹ còn lại bao nhiêu quả trứng?

Phép tính:

Trả lời:

Câu 13. Nhà Lan có 15 con gà, mẹ mua thêm 12 con gà nữa. Hỏi nhà Lan có tất cả bao nhiêu con gà?

Phép tính:

Trả lời: