

PHIẾU ÔN TẬP HỀ MÔN TOÁN – SỐ 01

Họ và tên:	Nhận xét của giáo viên
Lớp: 1.....	
Thứngày...../...../.....	

Phần I. Trắc nghiệm

Khoanh vào chữ cái đứng trước đáp án đúng hoặc làm theo yêu cầu

Câu 1. Số 79 gồm:

- A. 7 chục 9 đơn vị B. 9 chục 7 đơn vị C. 9 chục 9 đơn vị

Câu 2. Số chẵn liền trước của số 78 là:

- A. 74 B. 76 C. 78

Câu 3. Số tròn chục lớn nhất có hai chữ số là:

- A. 10 B. 20 C. 90

Câu 4. Trên đồng hồ kim ngắn chỉ số 8, kim dài chỉ số 12. Thời gian lúc ấy là:

- A. 12 giờ đúng B. 8 giờ đúng C. 5 giờ đúng

Câu 5. Biết: $95 - \dots = 85$. Số thích hợp điền vào chỗ chấm là:

- A. 10 B. 5 C. 15

Câu 6. Trang có 2 chục quả bưởi. Trang cho mẹ 10 quả bưởi và cho em Bin 3 quả bưởi. Hỏi Trang còn lại bao nhiêu quả bưởi?

- A. 15 quả bưởi B. 7 quả bưởi C. 23 quả bưởi

Câu 7. Trong thùng có 46 quả táo và quả ổi, trong đó có 2 chục quả ổi. Hỏi trong thùng có bao nhiêu quả táo?

- A. 48 quả táo B. 26 quả táo C. 44 quả táo

Câu 8. Hôm nay là thứ năm ngày mùng 10. Một tuần lễ nữa đến ngày sinh nhật của Lan. Hỏi sinh nhật của Lan vào ngày bao nhiêu?

- A. 17 B. 11 C. 9

Câu 9. Một người bán được 23 bao gạo tẻ và 12 bao gạo nếp. Hỏi người đó bán được tất cả bao nhiêu bao gạo?

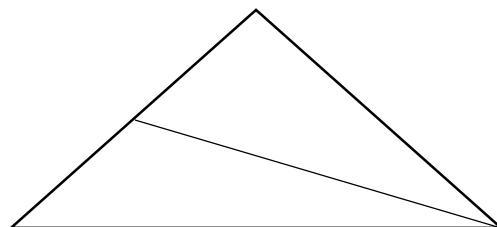
- A. 35 bao gạo B. 11 bao gạo C. 25 bao gạo

Câu 10. Một đàn gà có 45 con, trong đó có 3 chục con gà mái. Hỏi đàn gà đó có bao nhiêu con gà trống?

- A. 42 con gà trống B. 15 con gà trống C. 48 con gà trống

Câu 11. Hình bên có:

..... hình tam giác



PHIẾU ÔN TẬP HỀ MÔN TOÁN – SỐ 04

Họ và tên: Lớp: 1T..... Thứ ngày...../...../.....	Nhận xét của giáo viên
--	---

Phần I. Trắc nghiệm

Khoanh vào chữ cái đứng trước đáp án đúng hoặc làm theo yêu cầu

Câu 1. Số 59 gồm:

- A. 5 chục 9 đơn vị B. 9 chục 5 đơn vị C. 9 chục 9 đơn vị

Câu 2. Số chẵn liền trước của số 68 là:

- A. 64 B. 66 C. 68

Câu 3. Số lớn nhất có hai chữ số giống nhau là:

- A. 10 B. 11 C. 99

Câu 4. Trên đồng hồ kim ngắn chỉ số 7, kim dài chỉ số 12. Thời gian lúc ấy là:

- A. 12 giờ đúng B. 7 giờ đúng C. 5 giờ đúng

Câu 5. Biết: $45 + \dots = 55$. Số thích hợp điền vào chỗ chấm là:

- A. 10 B. 5 C. 15

Câu 6. Khúc gỗ dài 98cm, bị cưa bớt đi 4 chục cm. Hỏi khúc gỗ còn lại bao nhiêu cm?

- A. 40cm B. 58cm C. 50cm

Câu 7. Hân có 56 cái bánh quy và bánh xốp, trong đó có 30 cái bánh quy. Hỏi có bao nhiêu cái bánh xốp?

- A. 10 cái B. 86 cái C. 26 cái

Câu 8. Bạn Thủy đi du lịch 1 tuần và 6 ngày. Bạn Thủy đi 1 tuần thì về. Hỏi bạn Thủy về sớm mấy ngày?

- A. 7 ngày B. 6 ngày C. 5 ngày

Câu 9. Thùng một có 10 quyển sách, thùng hai có nhiều hơn thùng một 5 quyển sách. Hỏi thùng hai có bao nhiêu quyển sách?

- A. 5 quyển sách B. 10 quyển sách C. 15 quyển sách

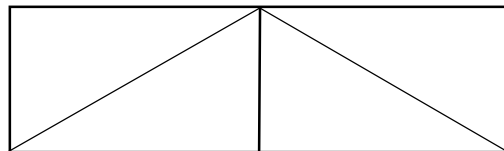
Câu 10. Mẹ có 58 viên kẹo. Mẹ cho chị và em mỗi người 10 viên kẹo. Hỏi mẹ còn lại bao nhiêu viên kẹo?

- A. 48 viên kẹo B. 68 viên kẹo C. 38 viên kẹo

Câu 11. Hình bên có:

..... hình chữ nhật

..... hình tam giác



PHIẾU ÔN TẬP HỀ MÔN TOÁN – SỐ 06

Họ và tên: Lớp: 1T..... Thứngày...../..... /	Nhận xét của giáo viên
--	---

Phần I. Trắc nghiệm

Khoanh tròn vào chữ cái đứng trước đáp án đúng hoặc làm theo yêu cầu

Câu 1. Số 25 gồm:

- A. 2 và 5 B. 5 chục và 2 đơn vị C. 2 chục và 5 đơn vị

Câu 2. Số tròn chục lớn nhất là:

- A. 10 B. 90 C. 20

Câu 3. Số 80 đứng liền sau số:

- A. 79 B. 82 C. 83

Câu 4. Số tròn chục bé nhất là:

- A. 10 B. 90 C. 30

Câu 5. Số liền sau số lớn nhất có một chữ số là:

- A. 10 B. 8 C. 7

Câu 6. Một tuần có số ngày là:

- A. 9 ngày B. 8 ngày C. 7 ngày

Câu 7. Sắp xếp các số 67, 40, 13, 28 theo thứ tự giảm dần là:

- A. 67, 40, 13, 28 B. 13, 28, 40, 67 C. 67, 40, 28, 13

Câu 8. Kết quả phép tính: $90 - 20 + 10$ là:

- A. 60 B. 70 C. 80

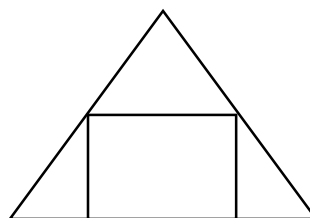
Câu 9. Bác Tú có 5 chục quả xoài, bác Tú đã bán 30 quả xoài. Hỏi bác Tú còn lại bao nhiêu quả xoài?

- A. 80 quả xoài B. 35 quả xoài C. 20 quả xoài

Câu 10. Hình bên có:

..... hình chữ nhật

..... hình tam giác



Phần II. Tự luận

Bài 1. Tính

$98 - 8 = \dots\dots\dots$ $76 - 12 - 3 = \dots\dots\dots$ $80\text{cm} + 13\text{cm} - 2\text{cm} = \dots\dots\dots$

$22 + 32 = \dots\dots\dots$ $89 - 24 - 15 = \dots\dots\dots$ $31\text{cm} + 25\text{cm} - 6\text{cm} = \dots\dots\dots$

$67 - 42 = \dots\dots\dots$ $20 + 14 + 32 = \dots\dots\dots$ $85\text{cm} - 15\text{cm} + 3\text{cm} = \dots\dots\dots$

