

Họ và tên:

Lớp:

TOÁN 5 – ÔN TẬP PHÉP TÍNH SỐ THẬP PHÂN, PHÂN SỐ VÀ SỐ TỰ NHIÊN

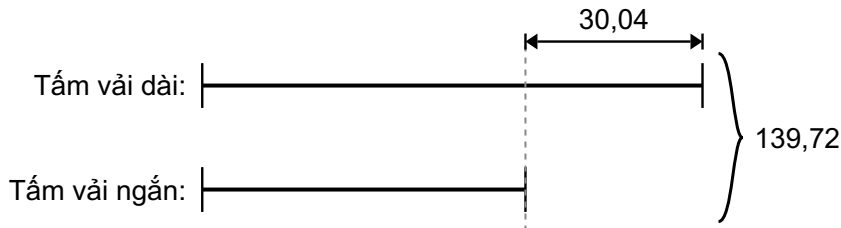
Phần I. Trắc nghiệm

Câu 1. Một người mua 5 hộp bút giá 2000 đồng/món và 2 quyển vở giá 9000 đồng/món. Người đó đưa 50 000 đồng. Hỏi người bán hàng phải trả lại bao nhiêu tiền?

- A. 40 000 đồng B. 38 993 đồng C. 22 000 đồng D. 28 000 đồng

Câu 2. Hai tấm vải có tổng chiều dài là 139,72 m. Tấm vải dài dài hơn Tấm vải ngắn 30,04 m.

Dựa vào sơ đồ dưới đây:



Hỏi Tấm vải ngắn dài bao nhiêu m?

- A. 109,68 m B. 169,76 m C. 84,88 m D. 54,84 m

Câu 3. Tính giá trị của biểu thức: $\frac{8}{3} \times \frac{8}{3}$





- A. 1 B. $\frac{31}{4}$ C. $\frac{64}{9}$ D. $\frac{65}{8}$

Câu 4. Tính: $\frac{1}{3} : 7$

- A. $\frac{7}{3}$ B. $\frac{3}{7}$ C. $\frac{1}{21}$ D. $\frac{1}{3}$

Câu 5. Số lượng hoa bán được tại một cửa hàng trong 5 ngày đầu tuần được biểu diễn trong biểu đồ sau:

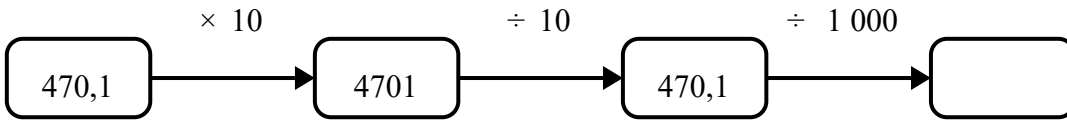
SỐ HOA BÁN ĐƯỢC

Ngày	Số hoa
Thứ Hai	 
Thứ Ba	
Thứ Tư	
Thứ Năm	
Thứ Sáu	
 = 10 bông hoa	

Hỏi trung bình mỗi ngày cửa hàng bán được bao nhiêu bông hoa?

- A. 30 B. 80 C. 60 D. 300

Câu 6. Quan sát sơ đồ chuỗi phép tính sau. Số thích hợp để điền vào ô trống là:



- A. 4701 B. 0,4701 C. 0,004 701 D. 47,01

Câu 7. Giá trị của biểu thức $126:9 + 0,9$ là:

- A. 13,1 B. 14,9 C. 1134,9 D. 12,7273

Câu 8. Trong 3 ngày, một cửa hàng bán được lần lượt là 14,1 kg, 17,3 kg và 16,8 kg gạo. Hỏi trung bình mỗi ngày cửa hàng đó bán được bao nhiêu ki-lô-gam gạo?

- A. 16,067 kg B. 16,8 kg C. 48,2 kg D. 24,1 kg

Câu 9. Một nhóm học sinh thực hiện khảo sát về mức độ hài lòng với trường học và ghi lại điểm số trong bảng sau. Hỏi điểm trung bình về mức độ hài lòng của nhóm là bao nhiêu?

Lần khảo sát	Điểm số
Lần 1	2
Lần 2	1
Lần 3	1
Lần 4	5
Lần 5	3



- A. 3 B. 1 C. 2,4 D. 12

Câu 10. Tính bằng cách thuận tiện nhất: $\frac{2}{9} + \frac{1}{6} + \frac{2}{9}$

- A. $\frac{2}{3}$ B. $\frac{7}{27}$ C. $\frac{1}{5}$ D. $\frac{11}{18}$

Câu 11. Kết quả của phép tính $\frac{1}{8} + \frac{1}{2}$ là bao nhiêu?

- A. $\frac{10}{16}$ B. $\frac{3}{8}$ C. $\frac{1}{8}$ D. $\frac{5}{8}$

Phần II. Tự luận

Bài 1. Hoa mua 2 cái thước kẻ, mỗi thước kẻ giá 10 000 đồng và 3 cái bút bi, mỗi bút bi giá 4000 đồng. Hoa đưa cho người bán hàng 50 000 đồng. Hỏi Hoa được trả lại bao nhiêu tiền?

Bài giải

.....

.....

.....

.....

.....

.....

.....

