

TOÁN 2 - ÔN LUYỆN HÈ (2)

Họ và tên học sinh:

Lớp:

I. PHẦN TRẮC NGHIỆM

Khoanh tròn vào chữ cái đặt trước câu trả lời đúng:

Câu 1. Số tám trăm ba mươi tư được viết là:

- A. 804 B. 834 C. 348 D. 843

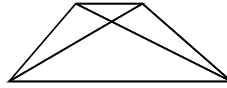
Câu 2. Số gồm 7 trăm, 0 chục và 6 đơn vị được viết là:

- A. 760 B. 607 C. 706 D. 76

Câu 3. Tổng của hai số 463 và 325 là:

- A. 788 B. 785 C. 138 D. 778

Câu 4. Hình vẽ dưới đây có bao nhiêu hình tứ giác?

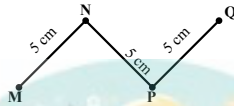


- A. 1 hình tứ giác B. 2 hình tứ giác C. 3 hình tứ giác D. 4 hình tứ giác

Câu 5. Trong các phép tính sau đây, phép tính nào có kết quả lớn nhất?

- A. $125 + 72$ B. $390 - 140$ C. $95 + 95$ D. $685 - 512$

Câu 6. Độ dài đường gấp khúc MNPQ hiển thị ở hình dưới là:



- A. $5 \times 3 = 15$ (cm) B. $3 \times 5 = 15$ (cm) C. $5 \times 4 = 20$ (cm) D. $5 + 3 = 8$ (cm)

II. PHẦN TỰ LUẬN

Bài 1. Một cửa hàng xăng dầu buổi sáng bán được 245 lít xăng. Buổi chiều cửa hàng bán được nhiều hơn buổi sáng 35 lít xăng. Hỏi buổi chiều cửa hàng đó bán được bao nhiêu lít xăng?

Bài giá
i:

Bài 2. Thời gian vào học lớp buổi chiều là 14 giờ 00 phút. Chiều hôm nay, do gặp sự cố trên đường nên Nam đã đến lớp muộn mất 20 phút. Hỏi Nam đã đến trường vào lúc mấy giờ mấy phút?

Bài giá
i:

Bài 3. Hoàn thành bảng sau:

Số gồm	Viết số	Đọc số
5 trăm, 8 chục, 2 đơn vị	<input style="width: 40px; height: 20px;" type="text"/>	<input style="width: 150px; height: 20px;" type="text"/>
<input style="width: 20px; height: 20px;" type="text"/> trăm, <input style="width: 20px; height: 20px;" type="text"/> chục, <input style="width: 20px; height: 20px;" type="text"/> đơn vị	491	<input style="width: 150px; height: 20px;" type="text"/>
<input style="width: 20px; height: 20px;" type="text"/> trăm, <input style="width: 20px; height: 20px;" type="text"/> chục, <input style="width: 20px; height: 20px;" type="text"/> đơn vị	<input style="width: 40px; height: 20px;" type="text"/>	sáu trăm hai mươi tư

Bài 4. Đặt tính rồi tính:

$57 + 36$

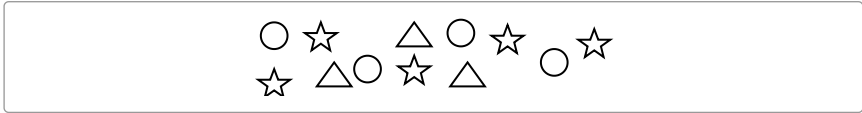
$81 - 45$

$365 + 429$

$835 - 518$

$647 - 283$

Bài 5. Quan sát hình vẽ dưới đây, kiểm đếm số lượng từng loại hình rồi hoàn thành bảng thống kê:



Loại hình	Hình tròn	Hình ngôi sao	Hình tam giác
Số lượng			

- a) Hình có số lượng nhiều nhất là:
- b) Hình ngôi sao nhiều hơn hình tam giác bao nhiêu hình?

