

TRƯỜNG TIỂU HỌC .....

Họ và tên: .....

Lớp: .....

ĐỀ KIỂM TRA CUỐI HỌC KÌ II

Môn: TOÁN - Lớp 4

(Thời gian: 40 phút)

Điểm	Nhận xét của giáo viên

**PHẦN I: TRẮC NGHIỆM.**

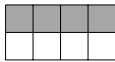
Khoanh tròn vào chữ cái trước đáp án đúng:

**Câu 1.** Hình đã được tô màu  $\frac{3}{4}$  hình là:

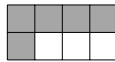
A.




B.



C.



D.



**Câu 2.** Số liền trước của số 5 000 000 là:

A. 4 999 999

B. 5 000 001

C. 4 900 000

D. 4 999 998

**Câu 3.** Rút gọn phân số  $\frac{48}{64}$  được phân số tối giản là:

A.  $\frac{6}{8}$

B.  $\frac{3}{4}$

C.  $\frac{24}{32}$

D.  $\frac{12}{16}$

**Câu 4.** Giá trị của biểu thức  $\frac{11}{10} - \frac{2}{5} \times \frac{3}{4}$  là:

A.  $\frac{4}{5}$

B.  $\frac{3}{10}$

C.  $\frac{7}{10}$

D.  $\frac{21}{40}$

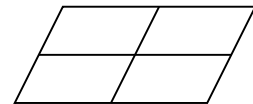
**Câu 5.** Hình vẽ bên có:

A. 4 hình bình hành

B. 5 hình bình hành

C. 8 hình bình hành

D. 9 hình bình hành



**Câu 6.** Trong  $\frac{1}{5}$  giờ, cô Lan đi bộ được  $\frac{9}{10}$  km. Vậy trung bình mỗi phút cô Lan đi bộ được số mét là:

A. 70 m

B. 75 m

C. 80 m

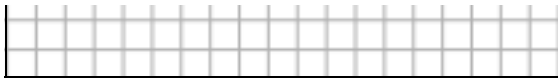
D. 90 m

**PHẦN II: TỰ LUẬN.**

**Bài 1.** Đặt tính rồi tính:

$$34\,206 \times 32$$

$$324\,576 : 16$$



**Bài 2.** Tính:

$$\frac{1}{4} + \frac{5}{12} =$$

$$\frac{5}{3} \times \frac{9}{5} =$$

$$\frac{5}{6} - \frac{7}{18} =$$

$$\frac{8}{15} : \frac{4}{5} =$$

**Bài 3.** Điền số thích hợp vào chỗ trống:

$$15 \text{ tấn } 45 \text{ kg} = \square \text{ kg}$$


$$5 \text{ dm}^2 \text{ } 12 \text{ cm}^2 = \square \text{ mm}^2$$

$$\frac{2}{5} \text{ thế kỉ} = \square \text{ năm}$$

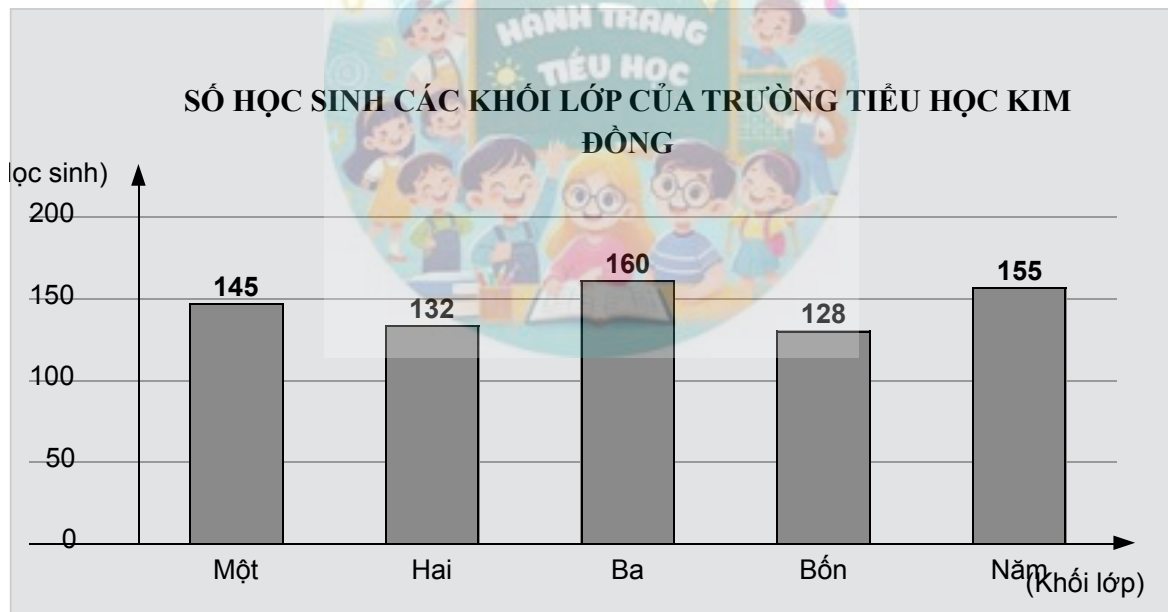
$$8 \text{ phút } 15 \text{ giây} = \square \text{ giây}$$

**Bài 4.** Tính bằng cách thuận tiện nhất:

$$\frac{47}{100} \times 856 - \frac{47}{100} \times 230 - \frac{47}{100} \times 126$$



**Bài 5.** Dưới đây là biểu đồ số học sinh các khối lớp của trường Tiểu học Kim Đồng:



Quan sát biểu đồ trên rồi điền vào chỗ trống cho thích hợp:

a. Khối lớp  có nhiều học sinh nhất. Khối lớp  có ít học sinh nhất.

b. Trung bình mỗi khối lớp của trường Tiểu học Kim Đồng có  học sinh.

**Bài 6.** Bác Hùng trồng lúa trên một thửa ruộng hình chữ nhật có chiều dài 40 m và chiều rộng  $\frac{45}{2}$  m.

Trung bình cứ 100 m<sup>2</sup> thu hoạch được 60 kg thóc. Hỏi bác Hùng thu hoạch được tất cả bao nhiêu ki-lô-gam thóc trên thửa ruộng đó?

*Bài giải*

