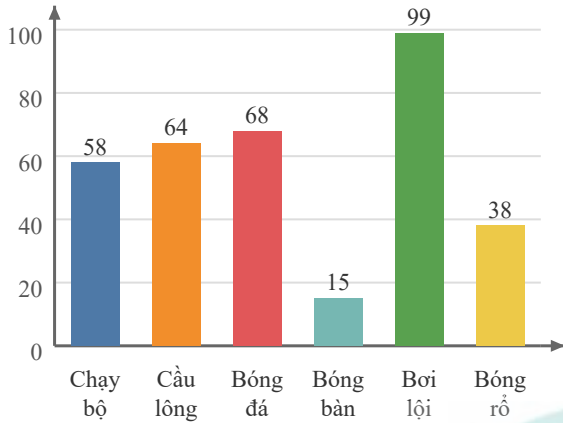


# Phiếu bài tập Toán lớp 5

## Phần I. Trắc nghiệm

**Câu 1.** Biểu đồ dưới đây cho biết số học sinh của một lớp yêu thích các môn thể thao. Theo biểu đồ, môn thể thao nào được nhiều bạn yêu thích nhất?

Số học sinh yêu thích các môn thể thao



A. Cầu lông

B. Bơi lội

C. Bóng đá

D. Bóng bàn

**Câu 2.**

Tên	Số lượng (quyển)
Bạn An	16
Bạn Chi	69
Bạn Dũng	96
Bạn Bình	148

Dựa vào bảng số liệu về số quyển sách các bạn trong tổ quyên góp, số lượng Bạn Dũng nhiều hơn số lượng Bạn Chi là bao nhiêu quyển?

A. 96

B. 27

C. 165

D. 25

**Câu 3.** Bảng dưới đây thống kê các loại kỷ niệm đáng nhớ nhất của một nhóm học sinh.

Loại	Số lượng
Sinh nhật	10
Ngày khai giảng	28
Chuyến du lịch	17
Giáng sinh	7

Hỏi có tất cả bao nhiêu học sinh đã tham gia cuộc khảo sát?

A. 28

B. 55

C. 4

D. 62

**Câu 4.** Quan sát biểu đồ tranh về số trái cây thu hoạch được trong vườn và cho biết số quả của Xoài bằng bao nhiêu phần trăm số quả của Cam?

Biểu đồ số trái cây thu hoạch được trong vườn

Loại quả	Số quả
Cam	
Táo	
Xoài	
Bưởi	
 = 1 quả	

A. 116,67%

B. 125%

C. 34,88%

D. 80%

**Câu 5.** Dựa vào bảng số liệu về các loại trái cây yêu thích của học sinh một lớp học, hãy cho biết đối tượng nào xuất hiện nhiều nhất?

Đối tượng	Số học sinh
Dưa hấu	44
Dâu tây	84
Chuối	21
Nho	71

A. Dâu tây

B. Dưa hấu

C. Chuối

D. Nho

**Câu 6.** Xem bảng số liệu sau:

Số lượng các loại quả trong cửa hàng	Số lượng (quả)
Nho	84
Chuối	84
Xoài	77

Cam	43
Dưa hấu	45

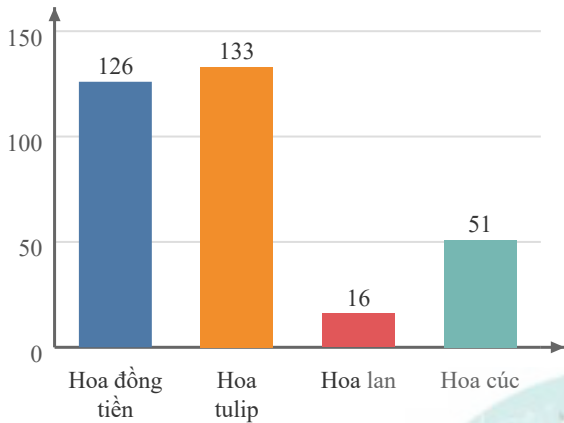
Số lượng nhóm 'Xoài' nhiều hơn số lượng nhóm 'Cam' là bao nhiêu?

- A. 34                                      B. 120                                      C. 77                                      D. 43

**Câu 7.** Quan sát biểu đồ sau:

Trong các loại hoa trên, loại hoa nào có số lượng nhiều nhất?

**Số lượng các loại hoa trong vườn**



- A. Hoa đồng tiền                      B. Hoa cúc                      C. Hoa lan                      D. Hoa tulip

**Câu 8.** Quan sát bảng sau:

Loại trái cây/Kho	Kho B	Kho A	Kho D
Dưa hấu	89	66	76
Cam	95	33	25
Chuối	13	40	19
Xoài	78	36	75
Táo	79	53	81

Quan sát bảng số liệu. Trong Kho A, có bao nhiêu kg Dưa hấu?

- A. 89                                      B. 25                                      C. 66                                      D. 53

**Câu 9.** Việc lập bảng số liệu thống kê có mục đích chính là gì?

- A. Chỉ để tìm ra số liệu lớn nhất hoặc nhỏ nhất trong dãy.  
 B. Làm cho bộ dữ liệu trông phức tạp và dài hơn.  
 C. Để hệ thống hóa dữ liệu, giúp việc phân tích và đưa ra nhận xét trở nên thuận tiện và chính xác hơn.  
 D. Chỉ để thu thập và ghi lại các con số.

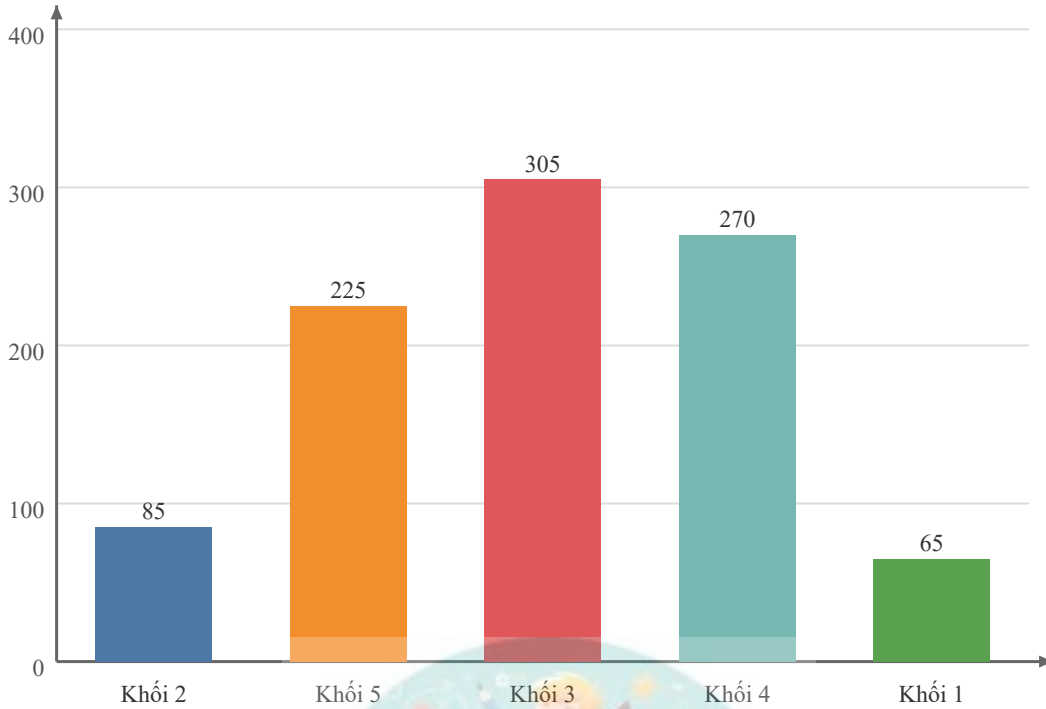
**Phần II. Tự luận**

**Bài 1.** Một mảnh đất hình chữ nhật có chu vi 70 m, chiều rộng bằng  $\frac{2}{3}$  chiều dài. Người ta mở rộng chiều dài thêm 9 m và chiều rộng thêm 3 m.

- a) Chiều dài của mảnh đất ban đầu là ..... m và chiều rộng là ..... m.

b) Diện tích của mảnh đất sau khi mở rộng là ..... m<sup>2</sup>.

**Biểu đồ số học sinh của các khối lớp**



Dựa vào biểu đồ, hãy cho biết tổng số học sinh của Khối 1 và Khối 2 là bao nhiêu? Tổng đó ít hơn số học sinh của Khối 4 là bao nhiêu học sinh?

**Bài giải**

.....

.....

.....

.....

.....

.....

.....

.....

.....

.....

.....

.....

