

### ĐỀ SỐ 3

#### A. Phần trắc nghiệm:

Khoanh tròn vào chữ cái trước câu trả lời đúng hoặc làm theo yêu cầu:

**Câu 1:** Viết số gồm 6 trăm và 4 đơn vị:

- A. 640                      B. 604                      C. 406                      D. 644

**Câu 2:** Số 842, giá trị của chữ số 4 là:

- A. 400                      B. 4                      C. 40                      D. 4000

**Câu 3:** Hiệu của số tròn trăm lớn nhất có ba chữ số với số nhỏ nhất có một chữ số là:

- A. 900                      B. 899                      C. 901                      D. 800

**Câu 4:** 310, 320, 330, 340, ....., ..... Số hạng thứ sáu của dãy số là:

- A. 350, 360                      B. 350                      C. 360                      D. 370

**Câu 5:** Số tròn chục liền sau số 524 là:

- A. 520                      B. 530                      C. 540                      D. 500

**Câu 6:** Hãy ước lượng để điền số và đơn vị đo vào chỗ trống cho hợp lý:

- a. Quyển sách Toán của em dày khoảng

.....  
b. Chiếc bút bi của em dài ..... mm

**Câu 7:** Thứ tư vào ngày 12 tháng 8. Vậy ngày thứ năm tuần sau vào ngày bao nhiêu?

- A. Ngày 19 tháng 8                      B. Ngày 20 tháng 8                      C. Ngày 13 tháng 8                      D. Ngày 21 tháng 8

**Câu 8:** Số 650 được viết thành tổng các trăm, chục, đơn vị là?

- A.  $650 = 600 + 5$                       B.  $650 = 60 + 50$                       C.  $650 = 600 + 50$                       D.  $650 = 6 + 5 + 0$

**Câu 9:** Cho một hình tam giác có độ dài các cạnh lần lượt là 7cm, 8cm và 9cm. Tổng độ dài ba cạnh của hình tam giác đó là bao nhiêu?

- A. 24 cm                      B. 24 dm                      C. 15 cm                      D. 240 mm

#### II/ Phần tự luận:

**Bài 1: Đặt tính rồi tính:**

$$57 + 29$$

$$91 - 34$$

$$438 + 251$$

$$865 - 523$$

**Bài 2: Điền số hoặc đơn vị đo độ dài thích hợp vào chỗ trống:**

a)  $200\text{cm} + 600\text{cm} = 800$ .....

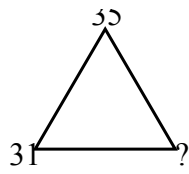
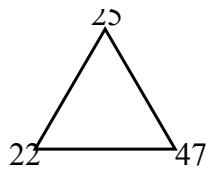
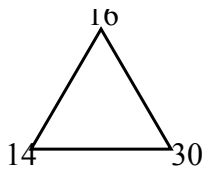
b)  $48\text{dm} = \dots\dots\dots\text{m} \dots\dots\dots\text{cm}$

**Bài 3: Tính:**

$$40 : 5 + 63 = \dots\dots\dots$$

**Bài 4:** Mỗi thùng dầu chứa được 5 lít dầu. Hỏi 6 thùng dầu như thế chứa được tất cả bao nhiêu lít dầu?

**Bài 5:**



Số cần điền vào ? là:

.....

