




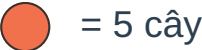


Phần II. Tự luận

Bài 1. Có 22 học sinh nam cân nặng tổng cộng 528 kg và 24 học sinh nữ cân nặng tổng cộng 1128 kg. Hỏi trung bình mỗi học sinh cân nặng bao nhiêu ki-lô-gam?

- Tổng số học sinh là:
- Tổng cân nặng của tất cả học sinh là: kg
- Trung bình mỗi học sinh cân nặng là: kg

Bài 2. Quan sát biểu đồ tranh và trả lời câu hỏi:

Loại hoa	Số lượng
Hoa hồng	
Hoa lan	
Hoa cúc	
Hoa hướng dương	
Hoa đồng tiền	
	

- Số cây Hoa hồng là cây.
- Số cây Hoa hồng nhiều hơn số cây Hoa hướng dương là cây.
- Tổng số cây có trong biểu đồ là cây.

Bài 3. Chú nông dân trồng đều 30 cây bắp cải vào 5 luống. Hỏi mỗi luống có bao nhiêu cây bắp cải?

Đáp số: cây.

Bài 6. một con trâu nặng 8 tạ, một con bê nặng bằng $\frac{1}{4}$ một con trâu. Hỏi một con bê nặng bao nhiêu tạ?

Bài giải

Bài 7. Một trang trại có 3 khu chuồng. Khu a có 84 con, khu b có 92 con và khu c có 88 con.

- Hỏi tổng số gia súc có trong tất cả các khu chuồng là bao nhiêu?
- Hỏi trung bình mỗi khu chuồng có bao nhiêu gia súc?


Bài giải

Bài 8. Một nền nhà hình chữ nhật có chiều dài 16 m, chiều rộng 12 m. Người ta dùng những viên gạch hình vuông cạnh 8 dm để lát nền.

- Tính diện tích nền nhà (đơn vị: m^2).
- Đổi diện tích nền nhà ra đơn vị dm^2 .
- Tính số viên gạch cần dùng để lát kín nền nhà.

Bài giải

Bài 9. Một trường tiểu học có hai mảnh vườn trồng hoa được minh họa như dưới đây. Mảnh vườn hoa hồng có chiều dài 9 m, chiều rộng 4 m. Mảnh vườn hoa cúc có cạnh 8 m.



Mảnh vườn hoa hồng



Mảnh vườn hoa cúc

Tính và so sánh chu vi, diện tích của Mảnh vườn hoa hồng và Mảnh vườn hoa cúc.

Bài giải

