

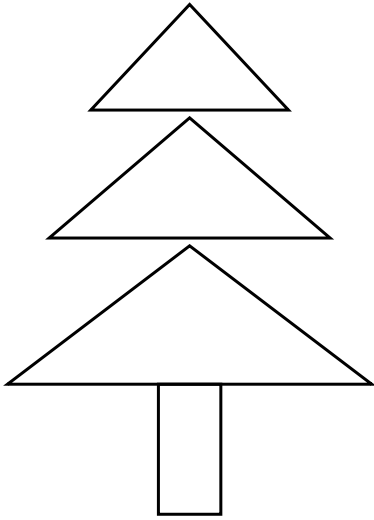
# TOÁN 1 – ÔN LUYỆN HÌNH HỌC

Họ và tên: .....

Lớp: .....

## Phần I. Trắc nghiệm

**Câu 1.** Trong hình dưới đây có bao nhiêu hình chữ nhật?



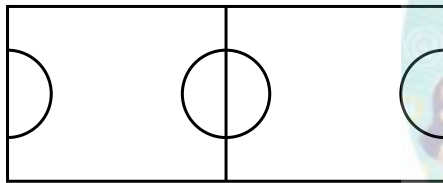
A. 1

B. 3

C. 4

D. 2

**Câu 2.** Trong hình vẽ bên có bao nhiêu hình chữ nhật?



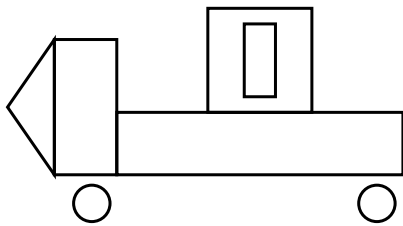
A. 3

B. 5

C. 4

D. 2

**Câu 3.** Hỏi trong hình bên có tất cả bao nhiêu hình?




A. 1

B. 7

C. 8

D. 3

**Câu 4.** Trong hình bên có bao nhiêu hình tròn?




A. 5

B. 4

C. 1

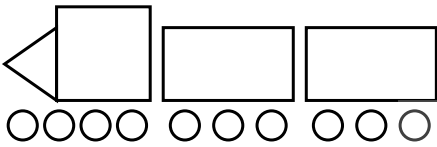
D. 10

**Câu 5.** Hình bên có bao nhiêu hình tứ giác?



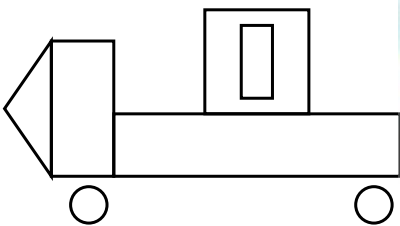
- A. 13                      B. 10                      C. 11                      D. 12

**Câu 6.** Quan sát hình sau và chọn khẳng định đúng.



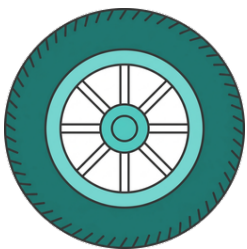
- A. Số hình tròn bằng số hình chữ nhật                      B. Có 9 hình chữ nhật  
 C. Số hình tròn ít hơn số hình chữ nhật                      D. Số hình tròn nhiều hơn số hình chữ nhật

**Câu 7.** Trong hình bên, loại hình nào có số lượng ít nhất?



- A. Hình vuông                      B. Hình tam giác                      C. Hình chữ nhật                      D. Hình tròn

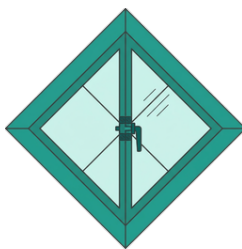
**Câu 8.** Vật nào dưới đây có dạng hình chữ nhật?




bánh xe



điện thoại



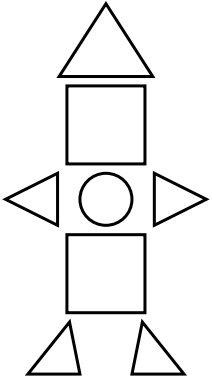
ô cửa kính



cửa sổ

- A. Bánh xe                      B. Điện thoại                      C. Ô cửa kính                      D. Cửa sổ

**Câu 9.** Trong hình bên có tất cả bao nhiêu hình?



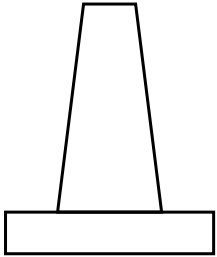
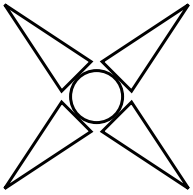
A. 7

B. 3

C. 5

D. 8

**Câu 10.** Trong hình dưới đây có bao nhiêu hình tam giác?



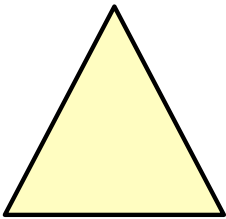
A. 1

B. 4


C. 5

D. 6

**Câu 11.** Đây là một khối hình?



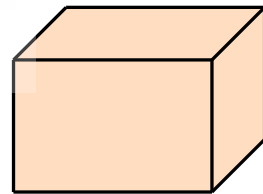
Hình 1



Hình 2



Hình 3



Hình 4

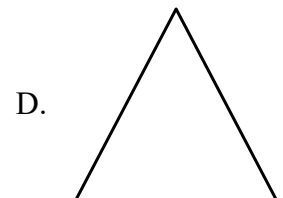


A. Hình 1

B. Hình 2

C. Hình 3

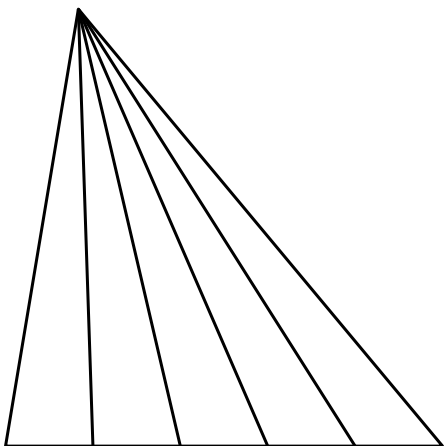
D. Hình 4

**Câu 12.** Hình thích hợp để điền vào dấu "?" là hình nào?



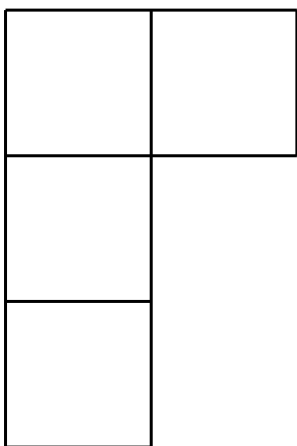
## Phần II. Tự luận

**Bài 1.** Hình bên có bao nhiêu hình tam giác?



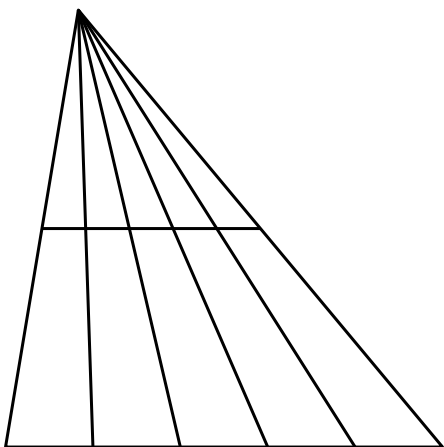
Số hình tam giác là: .....

**Bài 2.** Quan sát hình vẽ và trả lời câu hỏi:



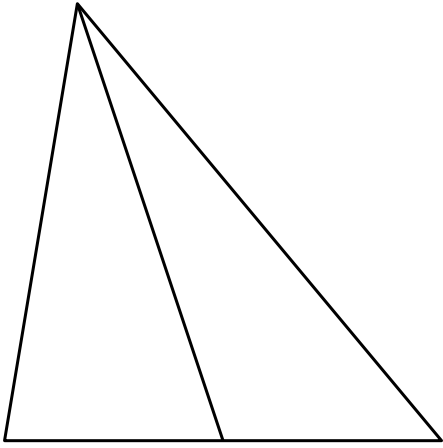
Hình bên có ... hình vuông.

**Bài 3.** Hình bên có bao nhiêu hình tam giác?



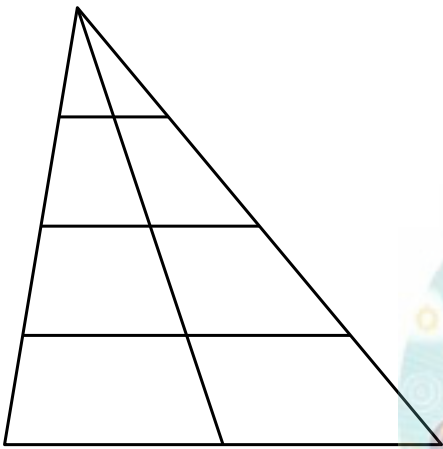
.....

**Bài 4.** Hình bên có bao nhiêu hình tam giác?



...

**Bài 5.** Hình bên có bao nhiêu hình tam giác?



Số hình tam giác là: .....

