

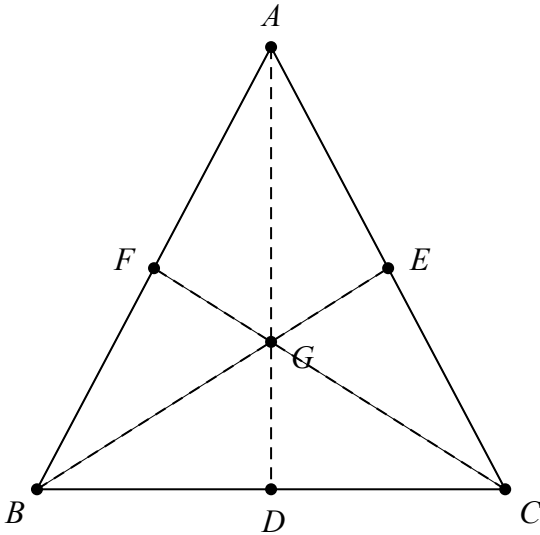
Toán 2 – Ôn luyện lại đường thẳng, điểm, hình tứ giác

Họ và tên:

Lớp:

Phần I. Trắc nghiệm

Câu 1. Quan sát hình vẽ và cho biết bộ ba điểm nào dưới đây không thẳng hàng?




A. Ba điểm C, D, E

B. Ba điểm A, E, C

C. Ba điểm A, F, B

D. Ba điểm C, G, F

Câu 2. Số hình tứ giác có trong hình bên là:



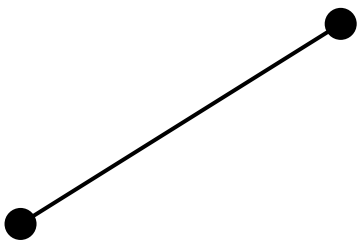
A. 6

B. 7

C. 8

D. 3

Câu 3. Hình vẽ dưới đây là:



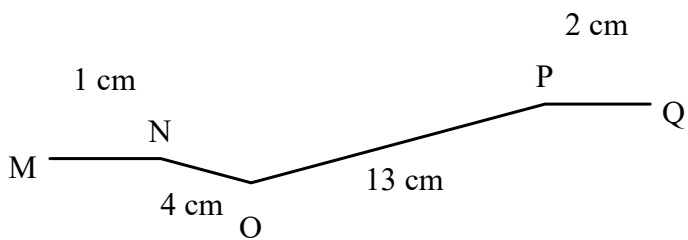
A. Đường cong

B. Đoạn thẳng

C. Đường thẳng

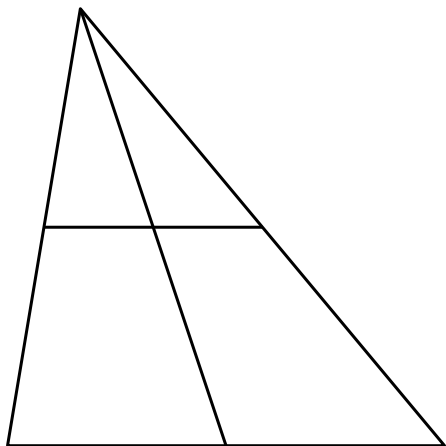
D. Đường gấp khúc

Câu 4. Tính độ dài đường gấp khúc MNOPQ trong hình sau:



- A. 13 cm B. 3 cm C. 5 cm D. 20 cm

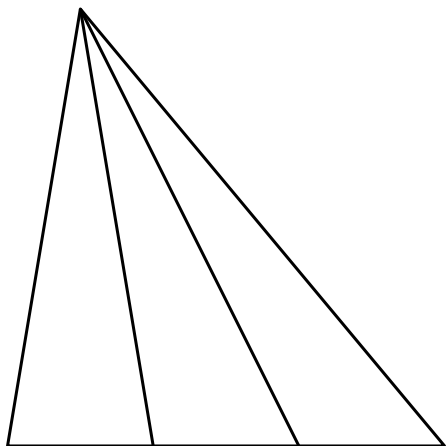
Câu 5. Số hình tứ giác có trong hình bên là:



- A. 2 B. 4 C. 1 D. 3


Phần II. Tự luận

Bài 1. Trong hình bên có bao nhiêu đoạn thẳng?



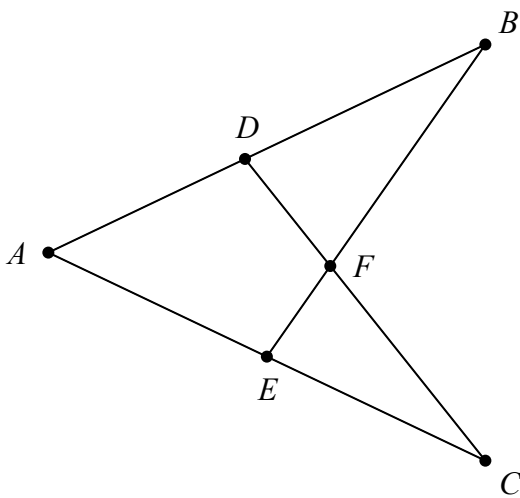
Đáp án:

Bài 2.



Có bao nhiêu hình tứ giác trong hình bên? ...

Bài 3. Quan sát hình vẽ rồi điền Đúng (Đ) hoặc Sai (S) vào chỗ chấm:



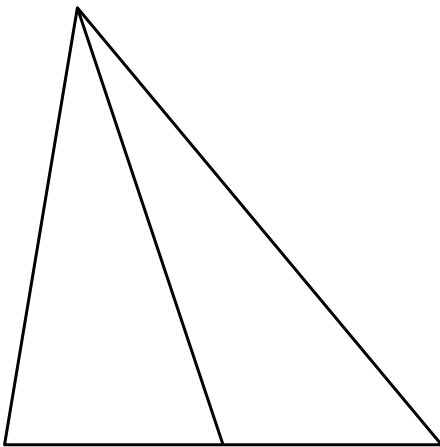
a) Ba điểm C, D, A thẳng hàng.

b) Ba điểm D, F, C thẳng hàng.

c) Ba điểm E, F, D thẳng hàng.

d) Ba điểm A, B, E thẳng hàng.


Bài 4. Quan sát hình vẽ và điền số thích hợp vào chỗ chấm:



a) Trong hình có ... điểm.

b) Trong hình có ... đoạn thẳng.


Bài 5. Nối mỗi đường gấp khúc với độ dài đúng của nó.



Bài 6. Trong hình bên có bao nhiêu đoạn thẳng?

Đáp án: ...

Bài 7. Quan sát hình vẽ và điền số thích hợp vào chỗ chấm:



a) Trong hình có ... điểm.

b) Trong hình có ... đoạn thẳng.