

Họ và tên:

Lớp:

TOÁN 2 – PHÉP CỘNG TRỪ TRONG PV 100

Phần I. Trắc nghiệm

Câu 1. Trên cành cây có 11 con chim. Một lúc sau, có thêm 64 con chim bay đến đậu. Hỏi lúc này trên cành cây có tất cả bao nhiêu con chim?

- A. 77 con chim B. 53 con chim C. 75 con chim D. 64 con chim

Câu 2. Trong các phép tính dưới đây, phép tính nào đặt tính sai (hoặc tính sai)?

- A. $92 - 6 = 86$ B. $97 - 8 = 91$ C. $90 - 5 = 85$ D. $84 - 7 = 77$

Câu 3. Số thích hợp điền vào ô trống trong phép tính $\square - 49 = 42$ là:

- A. 91 B. 7 C. 101 D. 81

Câu 4. Phép tính nào dưới đây có kết quả bé hơn 98?

- A. $32 + 68$ B. $61 + 39$ C. $87 - 31$ D. $64 + 34$

Câu 5. Phép tính nào dưới đây có cùng kết quả với phép tính $74 - 8$?

- A. $70 - 5$ B. $72 - 6$ C. $82 - 8$ D. $72 - 5$

Câu 6. Trong các phép tính dưới đây, phép tính nào đặt tính sai (hoặc tính sai)?

- A. $88 - 9 = 79$ B. $90 - 6 = 94$ C. $75 - 8 = 67$ D. $94 - 9 = 85$

Câu 7. Phép tính nào dưới đây có cùng kết quả với phép tính $57 - 9$?

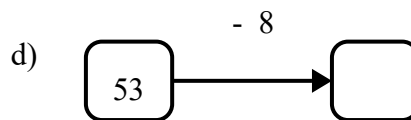
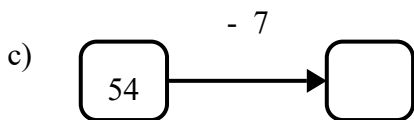
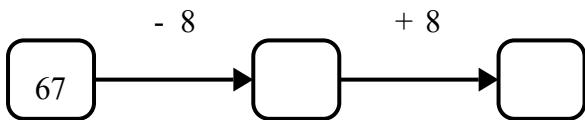
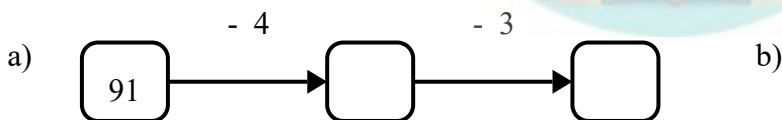
- A. $61 - 9$ B. $53 - 5$ C. $57 - 8$ D. $55 - 8$

Phần II. Tự luận

Bài 1. Tính:

- a) $78 - 49 + 70 = \dots$ b) $97 - 79 + 11 = \dots$ c) $61 - 54 + 24 = \dots$ d) $60 - 12 + 33 = \dots$

Bài 2. Điền số thích hợp vào ô trống.



Bài 3. Trong vườn có 46 bông hoa, chị đã hái 36 bông để cắm lọ. Hỏi trong vườn còn lại bao nhiêu bông hoa?

Bài giải

.....
.....
.....

Bài 4. Điền số thích hợp vào ô trống.

a) $58 \xrightarrow{-9} \square$

b)

$56 \xrightarrow{-7} \square \xrightarrow{+8} \square$

c) $74 \xrightarrow{-5} \square \xrightarrow{-8} \square$

d) $71 \xrightarrow{-7} \square$

Bài 5. Nối mỗi phép tính với hiệu đúng của nó.



Bài 6. Đặt tính rồi tính:

$52 - 48$

$95 - 28$

$50 - 39$

$92 - 73$

a)
.....
.....

b)
.....
.....

c)
.....
.....

d)
.....
.....

Bài 7. Một bao gạo ban đầu có 53 kg. Người ta đã lấy đi 15 kg. Hỏi bao gạo còn lại bao nhiêu kg?

Bài giải

.....
.....
.....
.....

Bài 8. Một thư viện có 32 quyển, trong đó có 13 quyển là truyện tranh. Hỏi có bao nhiêu quyển là sách giáo khoa?

Bài giải

.....
.....
.....

Bài 9.

Cuộn vải xanh có 86 mét vải. Cuộn vải đỏ có ít hơn Cuộn vải xanh là 28 mét vải. Hỏi Cuộn vải đỏ có bao nhiêu mét vải?

Bài giải

.....
.....
.....

---HẾT---

