

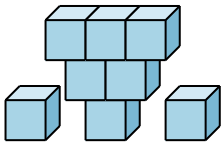
Toán 1 – Ôn luyện: Hình lập phương, vị trí định hướng trong không gian.

Họ và tên:

Lớp:

Phần I. Trắc nghiệm

Câu 1. Em hãy đếm xem trong hình sau có tất cả bao nhiêu khối lập phương nhé.



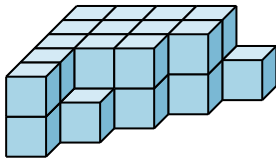
A. 7

B. 8


C. 9

D. 10

Câu 2. Chọn câu trả lời đúng.



Hình 1



Hình 2

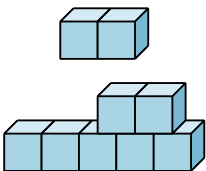
A. Hình 2 có nhiều hơn Hình 1 2 khối lập phương

B. Hình 1 có nhiều khối lập phương hơn Hình 2

C. Hình 2 có nhiều khối lập phương hơn Hình 1

D. Hai hình có số khối lập phương bằng nhau

Câu 3. Hình bên có bao nhiêu khối lập phương?




A. 10

B. 9


C. 8

D. 11

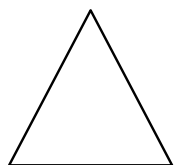
Câu 4. Đây là hình tam giác?



Hình 1



Hình 2



Hình 3



Hình 4

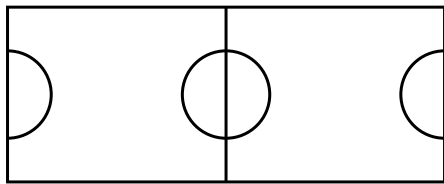
A. Hình 1

B. Hình 2

C. Hình 3

D. Hình 4

Câu 5. Trong hình vẽ bên có bao nhiêu hình chữ nhật?



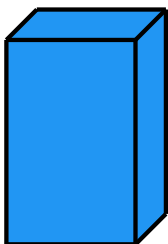
A. 3

B. 4

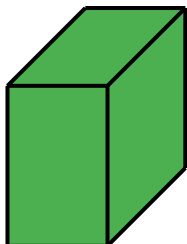
C. 2

D. 5


Câu 6. Khối hình nào dưới đây có 6 mặt là các hình vuông?




Hình 1



Hình 2



Hình 3



Hình 4

A. Hình 1


B. Hình 2

C. Hình 3

D. Hình 4

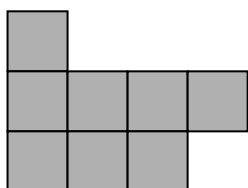
Phần II. Tự luận

Bài 1. Quan sát hình vẽ và trả lời câu hỏi:



Hình bên có ... hình vuông.

Bài 2. Các viên gạch được xếp thành hình dưới đây. Hỏi có bao nhiêu viên gạch ở:



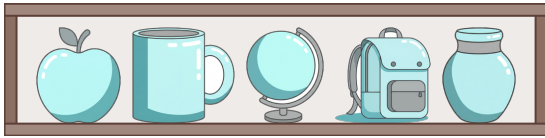
a) Hàng trên cùng: ... viên gạch.

b) Hàng giữa: ... viên gạch.

c) Hàng dưới cùng: ... viên gạch.

d) Cả ba hàng: ... viên gạch.

Bài 3. Quan sát các đồ vật trên kệ và trả lời câu hỏi:



- a) Vật nào ở bên trái của cái cặp sách?
- b) Vật nào ở bên trái của quả địa cầu?
- c) Vật nào ở bên trái của cái cốc?
- d) Vật nào ở bên phải của cái cốc?

---HẾT---

