





TOÁN 2 – PHIẾU BÀI TẬP: GIỜ-NGÀY -THÁNG; NHÂN/CHIA 2 5

Họ và tên:

Lớp:

Phần I. Trắc nghiệm

Câu 1. Dưới đây là lịch học buổi sáng của Rô-bốt:

	
Mĩ thuật	Địa lí
	
Toán	Tiếng Việt

Ngày sau giờ học **Địa lí**, Rô-bốt học môn nào?


- A. Toán B. Tiếng Việt C. Mỹ thuật D. Địa lí

Câu 2. Dựa vào tờ lịch dưới đây, hãy cho biết khoảng cách giữa ngày diễn ra sự kiện ở Trường học và ngày diễn ra sự kiện ở Siêu thị là bao nhiêu ngày?

Tháng 4 / 2028						
T2	T3	T4	T5	T6	T7	CN
					1	2  Trường học
3	4	5	6	7	8  Tiệm bánh	9  Siêu thị
10	11	12	13	14	15	16
17  Bệnh viện	18	19	20	21	22	23
24	25	26	27	28	29	30


- A. 8 ngày B. 6 ngày C. 7 ngày D. 15 ngày

Câu 3. Đồng hồ chỉ mấy giờ?




- A. 6 giờ 7 phút B. 7 giờ C. 8 giờ 30 phút D. 7 giờ 30 phút


Câu 4. Rô-bốt có lịch học các môn trong một buổi như sau:




Tiếng Việt



Ngoại ngữ



Tin học



Thể dục



Hỏi môn học nào diễn ra đầu tiên?

- A. Thể dục B. Ngoại ngữ C. Tin học D. Tiếng Việt

Câu 5. Phép tính 2×9 được chuyển thành tổng các số hạng bằng nhau là:

- A. $9 + 9$ B. $2 + 2 + 2 + 2 + 2 + 2 + 2 + 2 + 2$
 C. $2 + 2 + 2 + 2 + 2 + 2 + 2 + 2 + 2$ D. $9 + 9 + 9 + 9 + 9 + 9 + 9 + 9 + 9$

Câu 6. Trong phép tính $5 \times 6 = 30$, số 30 được gọi là gì?

- A. Tích B. Số bị trừ C. Số bị chia D. Thừa số

Câu 7. Từ phép nhân $5 \times 6 = 30$, ta lập được phép chia nào sau đây?

- A. $30 \div 5 = 5$ B. $30 \div 5 = 6$ C. $30 \div 6 = 6$ D. $5 \div 6 = 30$

Phần II. Tự luận

Bài 1. Quan sát lịch hoạt động tuần của bạn An và trả lời các câu hỏi:

Thứ Hai	Thứ Ba	Thứ Tư	Thứ Năm	Thứ Sáu	Thứ Bảy	Chủ Nhật
Học Tiếng Anh	Tập thể dục	Thăm ông bà	Học Âm nhạc	Chơi cờ vua		

- a) Vào Thứ Năm bạn An có hoạt động gì?
 b) Vào Thứ Sáu bạn An có hoạt động gì?

c) Hoạt động Tập thể dục diễn ra vào thứ mấy?

d) Hoạt động Thăm ông bà diễn ra vào thứ mấy?

Bài 2. Bạn Lan tham gia tuần lễ đọc sách từ ngày 4 tháng 5. Tuần lễ đọc sách kéo dài 7 ngày. Dựa vào tờ lịch, em hãy cho biết ngày cuối cùng của tuần lễ đọc sách là ngày nào, thứ mấy?

Tháng 5 / 2027						
T2	T3	T4	T5	T6	T7	CN
					1	2
3	4	5	6	7	8	9
10	11	12	13	14	15	16
17	18	19	20	21	22	23
24	25	26	27	28	29	30
31						

Bài giải

.....

.....

.....

Bài 3. An đến nhà bà lúc 8 giờ. Biết rằng bạn đã đi trong 1 giờ. Hỏi An bắt đầu đi lúc mấy giờ?
An bắt đầu đi lúc ... giờ.

Bài 4. Nối mỗi tình huống mô tả các nhóm đồ vật với phép nhân tương ứng.

Có 5 nhóm, mỗi nhóm có 8 quả bóng.	4×5
Có 5 nhóm, mỗi nhóm có 4 ngôi sao.	8×5
Có 4 nhóm, mỗi nhóm có 6 cái bút.	6×4
Có 3 nhóm, mỗi nhóm có 1 bông hoa.	5×3
Có 3 nhóm, mỗi nhóm có 5 viên bi.	1×3
Có 2 nhóm, mỗi nhóm có 6 quyển vở.	6×2

Bài 5. Điền số thích hợp vào chỗ chấm.

- a) $9 \times 7 = 9 + 9 + 9 + 9 + 9 + 9 + \dots$
- b) $9 + 9 + 9 = 9 \times \dots$
- c) $5 \times 7 = 5 + 5 + 5 + 5 + 5 + 5 + \dots$
- d) $3 \times 8 = 3 + 3 + 3 + 3 + 3 + 3 + 3 + \dots$

Bài 6. Lớp em xếp thành 3 hàng, mỗi hàng có 5 cây. Hỏi lớp em có tất cả bao nhiêu cây?

Bài giải

.....

